

Муниципальный этап Всероссийской олимпиады школьников

21.11 2023 г.

**Сведения об участнике:**

Фамилия Карлович

Имя Михаил

Отчество Сергеевич

Класс обучения 9 "Б"

Образовательная организация МОБУ Докровская СОШ

Подпись участника 

ШИФР Участника: 012

\*Шифр заполняет координатор ВСОШ

**ВСЕРОССИЙСКАЯ ОЛИМПИАДА ШКОЛЬНИКОВ ПО ИСТОРИИ  
МУНИЦИПАЛЬНЫЙ ЭТАП  
Приморский край. 2023-2024 уч. г.  
9 КЛАСС**

*Время выполнения – 90 минут  
Максимальное количество баллов – 100*

**Задание 1. По какому принципу образованы ряды? Кто или что является лишним в ряду? Вычеркните лишнее и дайте объяснение, почему? Ответы без объяснения не оцениваются! (максимальный балл – 10)**

1.1. «Повесть о Фоме и Ереме», «Повесть о Петре и Февронии», «Повесть о Ерше Ершовиче», «Повесть о Куре и Лисице».

Принцип \_\_\_\_\_

Исключение повесть о Куре и Лисице

1.2. Осада Полоцка, битва при Добрыничах, битва при Чашниках, оборона Пскова.

Принцип \_\_\_\_\_

Исключение \_\_\_\_\_

1.3. Стефан Вонифатьев, Стефан Яворский, протопоп Аввакум, патриарх Никон.

Принцип \_\_\_\_\_

Исключение \_\_\_\_\_

1.4. Днепр, Дон, Ильмень, Ловать, Волхов, Ладожское озеро.

Принцип остаточные реки дойти к устью из верхов в чехи, по реке дойти не удалось

Исключение Ладожское озеро дойти

1.5. Бояре, почетные граждане, думные дворяне, стольники, окольные.

Принцип остаточное население

Исключение окольные

**Задание 2. Соотнесите события отечественной и всеобщей истории (максимальный балл – 10)**

Событие отечественной истории	Событие всеобщей истории
А. Строительство красного кирпичного Кремля в Москве	1. Первое кругосветное плавание Магеллана
Б. Соляной бунт в Москве	2. Варфоломеевская ночь в Париже
В. Завершение правления Ярослава	3. Открытие Америки Колумбом

Мудрого	4. Завершение Столетней войны
Г. Завершение опричнины	5. «Великая схизма» католической и православной церквей
Д. Правление Симеона Гордого	6. Суд над Джордано Бруно
Е. Правление Михаила Федоровича	7. Деятельность кардинала Ришелье
Ж. Правление Бориса Годунова	8. Завершение Тридцатилетней войны
З. Восстание под предводительством Степана Разина	9. Строительство Версаля
И. Завершение «Феодалной войны» за московский престол	10. «Черная смерть» в Западной Европе
К. Присоединение Рязани к Москве	

Ответ:

А	Б	В	Г	Д	Е	Ж	З	И	К
9	8	2	1	3	6	7	5	10	4

3. Соотнесите фамилии известных российских дипломатов и названия подписанных ими мирных договоров. Укажите даты подписания договоров. Ответ оформите в таблицу (максимальный балл – 10)

Фамилия дипломата	Мирный договор
1. Безбородко А. А.	А. Андрусовское перемирие
2. Головин Ф. А.	Б. Нерчинский договор
3. Ордин-Нащокин А. Л.	В. Ништадтский договор
4. Остерман А. И.	Г. Прутский мир
5. Шафиров П. П.	Д. Ясский мирный договор

Ответ:

Дипломат	Договор (Буква)	Дата
Безбородко А. А.	А	1791
Головин Ф. А.	Б	1869
Ордин-Нащокин А. Л.	В	1667
Остерман А. И.	Г	1721
Шафиров П. П.	Д	1791

Задание 4. Верно ли утверждение? Ответ оформите в виде таблицы (максимальный балл – 10)

1. До царствования Петра I Россия никогда не имела выхода к Балтийскому морю
2. Экономические крестьяне – это крестьяне, которые во второй половине XVIII в. получили право уходить на время в города на заработки.
3. Воевода – глава уезда в России в XVII в.
4. С принятием Соборного Уложения дворяне утратили право передавать вотчины по наследству.
5. Барокко – стиль в архитектуре, преобладавший в России в первой половине – середине XVIII в.
6. Предводитель дворянства – согласно Жалованной грамоте дворянству выборный глава уездной или губернской дворянской корпорации.

- 7. Местничеством применительно к XV – XVII вв. называется вся совокупность правил и принципов организации местной власти в России.
- 8. Засеки стали впервые использоваться для защиты Руси от кочевников при Владимире I.
- 9. Меркантилизм – государственная политика в России XVII – XVIII в., ставившая своей главной целью обогащение российского купечества.
- 10. Урочные лета – это срок, в течение которого было разрешено искать беглых крестьян для возвращения прежним владельцам.

Ответ:

Верно	Неверно
1073563	10348921

25

Задание 5. Перед вами марки, на которых изображены кремли некоторых городов России. Определите, в каких городах располагаются эти кремли, соотнесите их с фактами из их истории. Ответ оформите в виде таблицы (максимальный балл – 10)

<p>1</p>  <p>РОССИЯ RUSSIA-2009</p>	<p>2</p>  <p>РОССИЯ RUSSIA-2009</p>
<p>3</p>  <p>РОССИЯ RUSSIA-2009</p>	<p>4</p>  <p>РОССИЯ RUSSIA-2009</p>

5

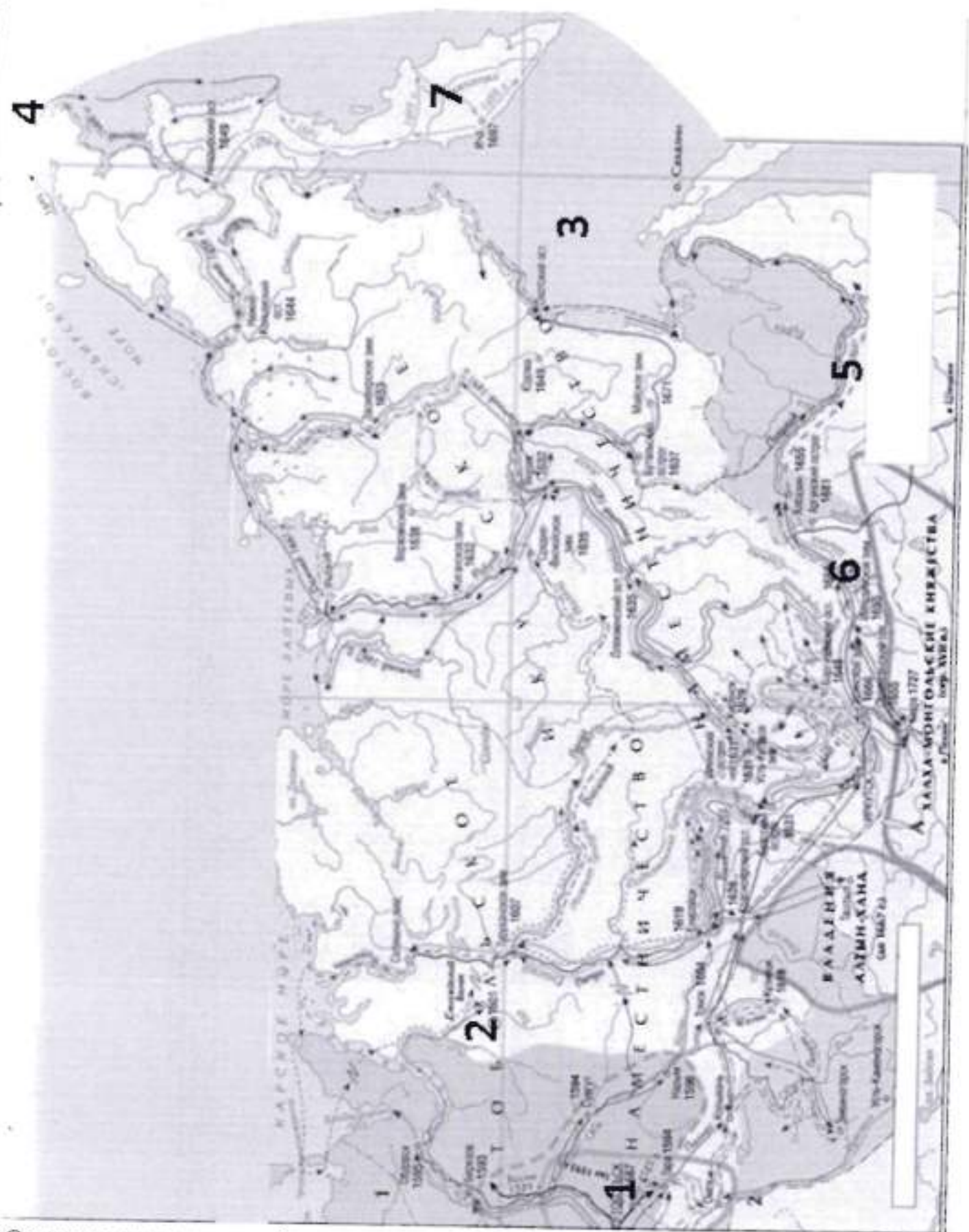


- А) На специально построенной колокольне в кремле некоторое время висел «ссылный» набатный колокол из Углича, в который звонили горожане после убийства царевича Дмитрия.
- Б) Кремль выдержал осаду войск Пугачёва в 1774 г.
- В) В кремле находятся Михайло-Архангельский собор, где ныне похоронен Кузьма Минин.
- Г) Иранский дипломат Орудж-бек Баят, посетивший кремль в 1599 году, в своих записках заключает: «Дома в Кремле построены в стиле итальянских архитекторов и украшены красивыми орнаментами. Дворец царя особенно красив...»
- Д) Благодаря самоотверженности горожан и умелому руководству И.П. Шуйского кремль целых полгода держал оборону от польско-литовских войск.

Ответ:

Изображения	Города	Факты из истории
1	Углич - колокол +	В +
2	Псков +	А +
3	Москва +	Б, Г +
4	Тюль +	Д +
5	Кремль +	Б +

Задание 6. Внимательно рассмотрите карту и заполните пропуски в предложениях. Ответы внесите в таблицу (максимальный балл – 10)



- 1) Освоение представленной на карте части России началось с разгрома (А – название) ханства, обозначенного на карте цифрой 1, казаками во главе с (Б – имя).
- 2) Крупным центром меновой торговли в Сибири был «златокопящий» город (В – название), обозначенный на карте цифрой 2, исчезнувший в XVII веке, и долгое время считавшийся легендарным.


- 3) Первым к (Г – название) морю, обозначенному на карте цифрой 3, вышел (Д – фамилия), ставший первым европейцем, вышедшим к Тихому океану с запада.
- 4) Первыми через пролив, обозначенный на карте цифрой 4, проплыли (Е – фамилия) и Ф.А. Попов, но их донесение затерялось в Якутском архиве, поэтому пролив получил название в честь руководителя Камчатских экспедиций (Ж – фамилия).
- 5) Реку, обозначенную цифрой 5, и земли вокруг неё исследовал (З – фамилия), в честь которого названа столица одного из субъектов Российской Федерации.
- 6) В городе (И – название), обозначенном на карте цифрой 6, был подписан первый договор между Россией и империей Цин.
- 7) Полуостров, обозначенный на карте цифрой 7, первым исследовал (К – фамилия), названный А.С. Пушкиным Ермаком полуострова.

Ответ:

А	Сибирского	+
Б	Ермаком	+
В	Латанья	+
Г	Охотскому	+
Д	Москвитин	+
Е	Деминь	+
Ж	Беринга	+
З	Тадаров	+
И	Керченске	+
К	Власов	+

Задание 7. Перед Вами несколько картин, в основу которых положены исторические события, связанные с деятельностью одного из правителей России. Вспомните этого правителя и расположите картины в хронологической последовательности изображенных на них событий. Укажите дату события. Ответ оформите в виде таблицы (максимальный балл – 10)





Ответ:

Правитель *Ирина I +*

Последовательность	Буквенное обозначение картины	Событие, изображенное на картине	Дата
1	В	создание Санкт-Петербурга +	1703/5
2	А	Иртышский бунт +	1698 +
3	Г	северная война +	1711 -
4	Б	царь Петр I -	1725 -

Задание 8. Перед Вами отрывки из «Слово о полку Игореве», известного произведения древнерусской литературы. Определите, о каких князьях идёт речь в каждом из указанных отрывков (Обязательно обоснуйте свой ответ). Ответ оформите в виде таблицы (максимальный балл – 10)

**А) (Имя) князь людемь судяше, княземь грады рядяше, а самъ въ ночь влькомь рыскаше: изъ Кыева дорискаше до курь Тматороканя, великому Хрьсови влькомь путь прерыскаше. Тому въ Полотьске позвониша заутренюю рано у святыя Софеи въ колоколы, а онъ въ Кыеве звон слыша. Аще и вещь душа въ дерзе теле, нь часто беды страдаше...**

**Б) Галичкы (имя)! Высоко седиши на своемъ златокованнемъ столе, подперь горы Угорскыи**

**В) Великий княже (имя)! Не мыслию ти прелетети издалуча, отня злата стола поблюсти? Ты бо можеши Волгу веслы раскропоти, а Донъ шеломы выльяти! Аже бы ты былъ, то была бы чага по ногате, а кощей по резане. Ты бо можеши посуху живыми шерешеры стреляти - удалыми сыны Глебовы...**

**Г) (Имя) к Дону вои ведет. Уже бо беды его пасет птицъ по дубию; волци грозу въерожат по яругам; орли клетком на кости звери зовут; лисици брешут на черленыя щиты. О Руская земле, уже за шеломянем еси!**



своими железными плъки,  
заступивъ королеви путь,  
затворивъ Дунаю ворота,  
меча бремены чрезъ облакы,  
суды рядя до Дуная...

Д А (имя) мутень сонъ виде  
въ Кieve на горахъ.  
"Си ночь, съ вечера, одевахуть мя - рече -  
чръною паполомою  
на кровати тисове;  
чръпахуть ми синее вино,  
с трудомъ смешено;  
сыпахуть ми тыщими тулы поганыхъ  
тльковинъ  
великий женчюгъ на лоно  
и негують мя...

Ответ:

Отрывок (буква)	Имя князя	Обоснование
А)	Виевалог —	
Б)	Урочлав +	
В)	Виевалог +	
Г)	Угорь +	
Д)		

Задание 9. Заполните пробелы в тексте, представляющем из себя перевод древнерусского источника. Ответ оформите в виде перечня элементов под соответствующими номерами (максимальный балл – 10)

«Той же осенью пришел ордынский князь (1 - имя) \_\_\_\_\_ с единомышленниками своими и со всеми прочими князьями ордынскими и со всей силой татарской и половецкой, да еще кроме того отряды нанял басурман, армян, фрягов, черкесов, ясов и буртасов. Также с (1) \_\_\_\_\_ в единомыслии и в единой думе был и литовский (2 - имя) \_\_\_\_\_ со всей силою литовскою и польскою. С ними же в союзе был князь (3 - имя) \_\_\_\_\_ и со всеми этими сообщниками пошел на великого князя (4 - имя) \_\_\_\_\_ Ивановича и на брата его Владимира Андреевича... Окаянный же (1) \_\_\_\_\_, возгордившись и считая себя царем, начал осуществлять злой замысел, темных своих князей звать. И сказал им: «Пойдем на русского князя и на всю силу русскую, как при (5 - имя) \_\_\_\_\_ было, христианство уничтожим и церкви божи спалим, и кровь их прольем и законы их погубим». Это из-за того, что нечестивый люто гневался за своих друзей и любимцев, князей, убитых на реке (6 - название) \_\_\_\_\_...

(4) \_\_\_\_\_ же князь, услышав в невеселое то время, что идут на него все царства, совершающие беззаконие, говоря: «Наша рука еще высока», пошел в соборную церковь...

Встав после молитвы, вышел он из церкви и послал за братом своим Владимиром и за всеми князьями русскими и за воеводами великими. И сказал брату своему Владимиру

и всем князьям русским и воеводам: «Пойдем против этого окаянного и безбожного, нечестивого и темного сыроядца (1) \_\_\_\_\_, за правую веру христианскую, за святые церкви, за всех младенцев, и старцев и за всех христиан...» И соединившись со всеми князьями русскими и со всею силою, пошел он против них скоро из (7 – название города) \_\_\_\_\_, намереваясь оборонять свою отчину, и пришел в (8 – название города) \_\_\_\_\_, и собрал воинов своих 150 тысяч, кроме войска княжеского и воевод местных. От начала мира не бывало такой силы русских князей, как при этом князе. Было всей силы и всех войск с полтораста тысяч или с двести. Да еще к тому подоспели в ту пору военную издалека великие князья Ольгердовичи, чтобы поклониться и послужить: князь Андрей Полоцкий с псковичами и брат его, князь Дмитрий Брянский со всеми своими воинами.

В то время (1) \_\_\_\_\_ стал за (9 – название реки) \_\_\_\_\_, буйствуя, возгордившись и гневаясь со всем своим царством, и стоял три недели... И начал (1) \_\_\_\_\_ посылать к князю (4) \_\_\_\_\_ дани просить, как было при Чанибеке-царе, а не по своему соглашению... (3) \_\_\_\_\_ же, отступник наш, присоединившийся к зловердному и поганому (1) \_\_\_\_\_ и нечестивому (2) \_\_\_\_\_, начал дань ему отдавать и свою силу посылать к нему на князя (4) \_\_\_\_\_ ... И пошел он из (8) \_\_\_\_\_ с великой силой против безбожных татар 20 августа...

...Великий же князь пришел к реке (9) \_\_\_\_\_ за два дня до рождества святой богородицы... Пришли они к (9) \_\_\_\_\_, стали тут и много раздумывали. Одни говорили: «Пойди, князь за (9) \_\_\_\_\_», а другие сказали: «Не ходи, так как умножились враги наши, не только татары, но и Литва, и рязанцы»... (4) \_\_\_\_\_ сказал брату своему и всем князьям и воеводам великим: «Подощло, братья, время битвы нашей...» И велел мосты мостить и о бродах разузнавать в ту ночь. На следующий день, в субботу рано, 8 сентября, в самый праздник, во время восхода солнца была тьма великая по всей земле, мгла, не было света от утра до третьего часа... Князь же великий приготовил свои полки великие, и все его князья русские свои полки подготовили, и великие его воеводы оделись в одежды праздничные, и случайности смертельные уничтожились... Когда князь перешел за (9) \_\_\_\_\_ в чистое поле, в (1) \_\_\_\_\_ землю, на устье (10 – название реки) \_\_\_\_\_ господь бог один вел его...

И было это в шестой час дня, начали появляться поганые... И тут приготовились татарские полки против христиан, и встретились полки; и великие силы увидав, пошли, и гудела земля, горы и холмы тряслись от множества воинов бесчисленных... Когда бились они с шестого часа до девятого, пролилась, как дождевая туча, кровь обоих — русских сыновей и поганных... А (1) \_\_\_\_\_, в страхе затрепетав и сильно застонав, сказал: «Велик бог христианский и велика сила его...» И сам обратившись в бегство, быстро побежал обратно к орде... И гнали его до речки Мечи...»

**Ответ:**

1	Малый	+
2	Займо	+
3	Андрей Иванович	+
4	Дмитрий	+

5	Камне	+
6	Взше	+
7	Могавн	+
8	Калачку	+
9	Докам	+
10	Кецава	+

105

**Задание 10.** Внимательно изучите представленный ниже отрывок из документа и ответьте на вопросы к нему (максимальный балл – 10)

**«Король:** Вы должны всё приготовить к нападению на ...; вы должны вести осаду и сказать нам, в какой день мы возьмём крепость.

**Гилленкрок:** Я думаю, что и сам Вобан призадумался бы, если б увидел, как здесь у нас недостаток во всём, что нужно для осады.

**Король:** У нас довольно материала, чтоб взять такую ничтожную крепость, как ...

**Гилленкрок:** Крепость не сильна, но в ней 4000 гарнизона, кроме козаков.

**Король:** Русские сдадутся при первом пушечном выстреле с нашей стороны.

**Гилленкрок:** А я думаю, что русские будут защищаться до последней крайности, и пехоте вашего величества сильно достанется от продолжительных осадных работ.

**Король:** Я вовсе не намерен употреблять на это мою пехоту, а запорожцы Мазепины на что?

**Гилленкрок:** Но разве можно употреблять на осадные работы людей, которые не имеют об них никакого понятия, с которыми надобно объясняться чрез толмачей и которые разбегутся, как скоро работа покажется им тяжёлой и товарищи их начнут падать от русских пуль?»

#### ВОПРОСЫ:

1. Какое событие описывается в источнике? В каком году оно произошло?

2. Назовите имя короля.

3. Король, обращаясь к собеседнику, утверждает: «Вы должны все приготовить к нападению на ...; вы должны вести осаду и сказать нам, в какой день мы возьмём крепость».

Какие аргументы приводит король в пользу того, что сделать это легко?

Какие аргументы приводит его собеседник в пользу того, что сделать это затруднительно?

Приведите по два аргумента, используя источник.

4.

1) Чья позиция, короля или Гилленкрока, оказалась более реалистичной?

2) Обоснуйте свой ответ, опираясь на знание исторических фактов. Приведите два обоснования.

#### Ответ:

1.

1) Полтавская битва

2) 1709

2. Конец XII

3.

Аргументы короля:

- 1) много материалов, чтобы взять крепость +
- 2) у них хорошие пушки +

Аргументы Гиленкрока:

- 1) в крепости 4000 гарнизона, краше казарм +
- 2) летом жарко и не достается от производительной работы +

4.

- 1) шестирюга +
- 2) они были разбиты шведы +

**Желаем успеха!**

825

Муниципальный этап Всероссийской олимпиады школьников

21.11 2023 г.

Сведения об участнике:

Фамилия ЛЕОНЕНКО

Имя ЕЛИЗАВЕТА

Отчество КОНСТАНТИНОВНА

Класс обучения 9

Образовательная организация МОБУ Струзовская  
ООШ

Подпись участника 

ШИФР Участника: 107

\*Шифр заполняет координатор ВСОШ

10.

(25)

**ВСЕРОССИЙСКАЯ ОЛИМПИАДА ШКОЛЬНИКОВ ПО ИСТОРИИ**  
**МУНИЦИПАЛЬНЫЙ ЭТАП**  
Приморский край. 2023-2024 уч. г.  
9 КЛАСС

Время выполнения – 90 минут  
Максимальное количество баллов – 100

**Задание 1.** По какому принципу образованы ряды? Кто или что является лишним в ряду? Вычеркните лишнее и дайте объяснение, почему? Ответы без объяснения не оцениваются! (максимальный балл – 10)

«Повесть о Фоме и Ереме», «Повесть о Петре и Февронии», «Повесть о Ерше Ершовиче», «Повесть о Куре и Лисице».

Принцип сатирические повести XVII в. +

Исключение Повесть о Петре и Февронии +

Осада Полоцка, битва при Добрыничах, битва при Чашниках, оборона Пскова.

Принцип сражение Ливонской войны +

Исключение Битва при Добрыничах +

Стефан Вонифатьев, Стефан Яворский, протопоп Аввакум, патриарх Никон.

Принцип церковные деятели эпохи правления Алексея Михайловича +

Исключение Стефан (Вонифатьев) Яворский +

Днепр, Дон, Ильмень, Ловать, Волхов, Ладожское озеро.

Принцип Ставы пути из варяг в греки +

Исключение Дон +

Бояре, почетные граждане, думные дворяне, стольники, окольные.

Принцип искудство двора в XVII в. +

Исключение почетные граждане +

105.

**Задание 2.** Соотнесите события отечественной и всеобщей истории (максимальный балл – 10)

Событие отечественной истории	Событие всеобщей истории
А. Строительство красного кирпичного Кремля в Москве	1. Первое кругосветное плавание Магеллана
Б. Соляной бунт в Москве	2. Варфоломеевская ночь в Париже
В. Завершение правления Ярослава	3. Открытие Америки Колумбом

Мудрого	4. Завершение Столетней войны
Г. Завершение опричнины	5. «Великая схизма» католической и православной церквей
Д. Правление Симеона Гордого	6. Суд над Джордано Бруно
Е. Правление Михаила Федоровича	7. Деятельность кардинала Ришелье
Ж. Правление Бориса Годунова	8. Завершение Тридцатилетней войны
З. Восстание под предводительством Степана Разина	9. Строительство Версаля
И. Завершение «Феодалной войны» за московский престол	10. «Черная смерть» в Западной Европе
К. Присоединение Рязани к Москве	

Ответ:

А	Б	В	Г	Д	Е	Ж	З	И	К
3	8	5	2	10	7	6	9	4	1

Соотнесите фамилии известных российских дипломатов и названия подписанных ими мирных договоров. Укажите даты подписания договоров. Ответ оформите в таблицу (максимальный балл – 10)

Фамилия дипломата	Мирный договор
1. Безбородко А. А.	А. Андрусовское перемирие
2. Головин Ф.А.	Б. Нерчинский договор
3. Ордин-Нащокин А.Л.	В. Ништадтский договор
4. Остерман А. И.	Г. Прутский мир
5. Шафиров П.П.	Д. Ясский мирный договор

Ответ:

Дипломат	Договор (Буква)	Дата
Безбородко А. А.	Д +	1693 -
Головин Ф.А.	<del>Б</del> Б +	1589 -
Ордин-Нащокин А.Л.	А +	1667 +
Остерман А. И.	В +	1617 -
Шафиров П.П.	Г +	1662 -

Задание 4. Верно ли утверждение? Ответ оформите в виде таблицы (максимальный балл – 10)

1. До царствования Петра I Россия никогда не имела выхода к Балтийскому морю
2. Экономические крестьяне – это крестьяне, которые во второй половине XVIII в. получили право уходить на время в города на заработки.
3. Воевода – глава уезда в России в XVII в.
4. С принятием Соборного Уложения дворяне утратили право передавать вотчины по наследству.
5. Барокко – стиль в архитектуре, преобладавший в России в первой половине – середине XVIII в.
6. Предводитель дворянства – согласно Жалованной грамоте дворянству выборный глава уездной или губернской дворянской корпорации.

- . Местничеством применительно к XV – XVII вв. называется вся совокупность правил и принципов организации местной власти в России.
- . Засеки стали впервые использоваться для защиты Руси от кочевников при Владимире
- . Меркантилизм – государственная политика в России XVII – XVIII в., ставившая своей главной целью обогащение российского купечества.
- Урочные лета – это срок, в течение которого было разрешено искать беглых крестьян для возвращения прежним владельцам.

Ответ:

Верно	Неверно
3, 5, 10, 6, 8, + + + + +	1, 2, 9, 5, 4, 7, + + + + +

Задание 5. Перед вами марки, на которых изображены кремли некоторых городов России. Определите, в каких городах располагаются эти кремли, соотнесите их с фактами из их истории. Ответ оформите в виде таблицы (максимальный балл –

<p>1</p> 	<p>2</p> 
<p>3</p> 	<p>4</p> 



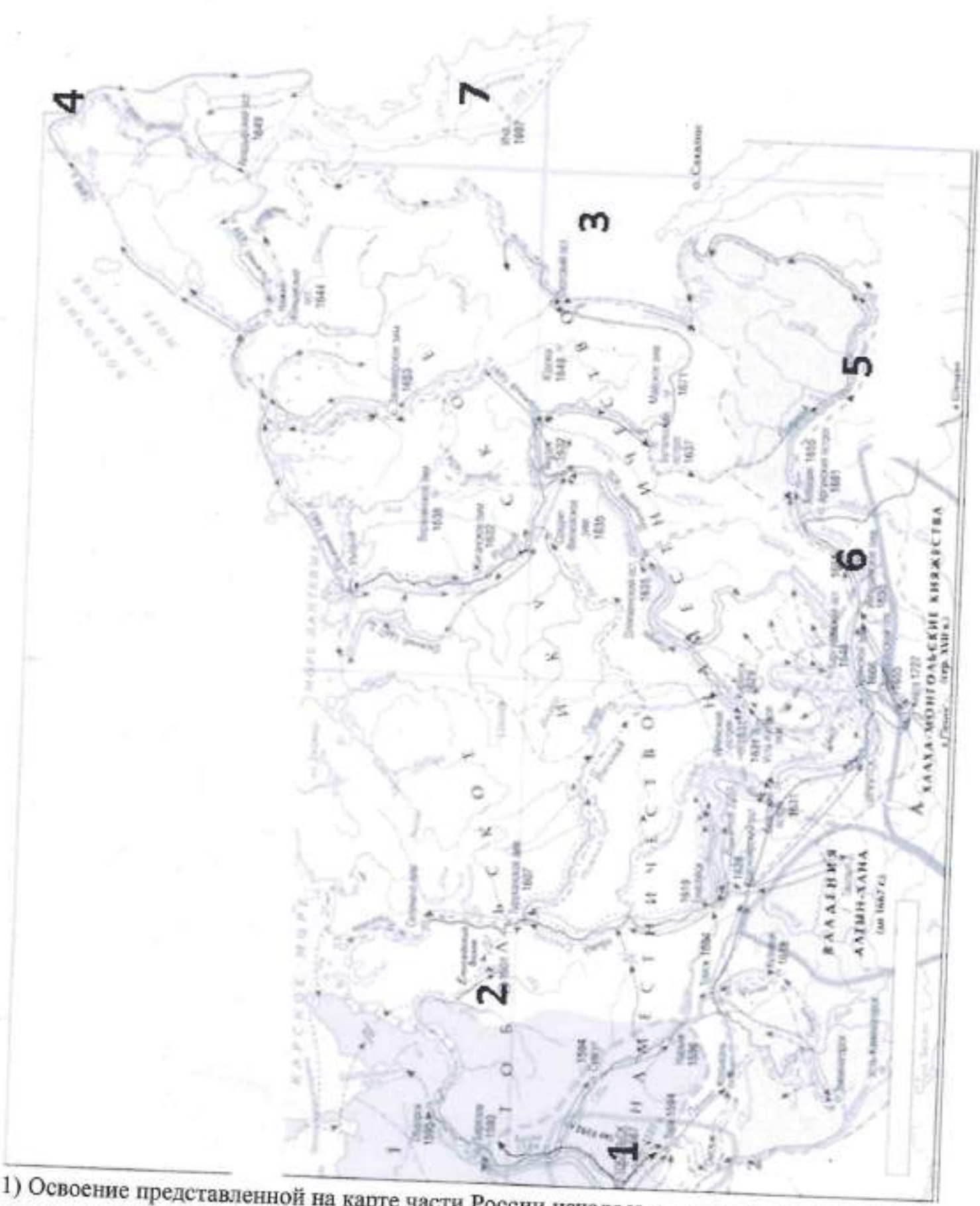


- А) На специально построенной колокольне в кремле некоторое время висел «ссылный» набатный колокол из Углича, в который звонили горожане после убийства царевича Дмитрия.
- Б) Кремль выдержал осаду войск Пугачёва в 1774 г.
- В) В кремле находятся Михайло-Архангельский собор, где ныне похоронен Кузьма Минин.
- Г) Иранский дипломат Орудж-бек Баят, посетивший кремль в 1599 году, в своих записках заключает: «Дома в Кремле построены в стиле итальянских архитекторов и украшены красивыми орнаментами. Дворец царя особенно красив...»
- Д) Благодаря самоотверженности горожан и умелому руководству И.П. Шуйского кремль целых полгода держал оборону от польско-литовских войск.

Ответ:

Изображения	Города	Факты из истории
1	Нижегород +	В +
2	Тогольск -	А +
3	Москва +	Г +
4	Псков +	Д +
5	Казань +	Б +

Задание 6. Внимательно рассмотрите карту и заполните пропуски в предложениях. Ответы внесите в таблицу (максимальный балл – 10)



- 1) Освоение представленной на карте части России началось с разгрома (А – название) ханства, обозначенного на карте цифрой 1, казаками во главе с (Б – имя).
- 2) Крупным центром меновой торговли в Сибири был «златокопящий» город (В – название), обозначенный на карте цифрой 2, исчезнувший в XVII веке, и долгое время считавшийся легендарным.

- 3) Первым к (Г – название) морю, обозначенному на карте цифрой 3, вышел (Д – фамилия), ставший первым европейцем, вышедшим к Тихому океану с запада.
- 4) Первыми через пролив, обозначенный на карте цифрой 4, проплыли (Е – фамилия) и Ф.А. Попов, но их донесение затерялось в Якутском архиве, поэтому пролив получил название в честь руководителя Камчатских экспедиций (Ж – фамилия).
- 5) Реку, обозначенную цифрой 5, и земли вокруг неё исследовал (З – фамилия), в честь которого названа столица одного из субъектов Российской Федерации.
- 6) В городе (И – название), обозначенном на карте цифрой 6, был подписан первый договор между Россией и империей Цин.
- 7) Полуостров, обозначенный на карте цифрой 7, первым исследовал (К – фамилия), названный А.С. Пушкиным Ермаком полуострова.

Ответ:

А	Сибирцев	+
Б	Ермаков	+
В	Манго	-
Г	Охотский	+
Д	И.Ю. Москвитин	+
Е	С.И. Дежнев	+
Ж	Веринго	-
З	Жадаров	+
И	Нерчинский	+
К	Отласкин	-

75

Задание 7. Перед Вами несколько картин, в основу которых положены исторические события, связанные с деятельностью одного из правителей России. Вспомните этого правителя и расположите картины в хронологической последовательности изображенных на них событий. Укажите дату события. Ответ оформите в виде таблицы (максимальный балл – 10)



В.



Г.



Ответ:

Правитель

Последовательность	Буквенное обозначение картины	Событие, изображенное на картине	Дата
1	Б	Стрелецкий бунт	1682г
2	В	Подавление стрелецкого бунта	1698г
3	А	Освобождение Петербурга	1703г
4	Г	Полтавская битва	1709г

Задание 8. Перед Вами отрывки из «Слово о полку Игореве», известного произведения древнерусской литературы. Определите, о каких князьях идёт речь в каждом из указанных отрывков (Обязательно обоснуйте свой ответ). Ответ оформите в виде таблицы (максимальный балл – 10)

А) (Имя) князь людемь судяше,  
княземь грады рядяше,  
а самь въ ночь влькомь рыскаше:  
изъ Кыева дорискаше до курь  
Тмутороканя,  
великому Хрсьови влькомь путь  
прерыскаше.  
Тому въ Полотьске позвониша  
заутренюю рано  
у свята Софеи въ колоколы,  
а онь въ Кыеве звон слыша.  
Аще и вещь душа въ дерзе теле,  
нъ часто беды страдаше...

Б) Галички (имя)!

Высоко седиши  
на своемь златокованнемь столе,  
подперь горы Угорскыи

В) Великий княже (имя)!  
Не мыслию ти прелетети издалеча,  
отня злата стола поблюсти?  
Ты бо можеша Волгу веслы раскропити,  
а Донь шелома выльяти!  
Аже бы ты былъ,  
то была бы чага по ногате,  
а кощей по резане.  
Ты бо можеша посуху  
живыми шерепиры стреляти -  
удальми сыны Глебовы...

Г) (Имя) к Дону вои ведет.  
Уже бо беды его пасет птишь по дубию;  
волци грозу вьсержат по яругам;  
орли клетом на кости звери зовут;  
лисици брешут на черленья щиты.  
О Руская земле, уже за шеломянем еси!

своими железными штыки,  
заступивъ королеви путь,  
затворивъ Дунаю ворота,  
меча бремены чрезъ облаки,  
суды рядя до Дуная...

Д) А (имя) мутень сонъ виде  
въ Киеве на горахъ.  
"Си ночь, съ вечера, одевахуть мя - рече -  
чръною паполомою  
на кровати тисове;  
чръпахуть ми синее вино,  
с трудомъ смешено;  
сыпахуть ми тыщими тулы поганыхъ  
тльковинъ  
великий женчюгъ на лоно  
и негують мя...

Ответ:

Отрывок (буква)	Имя князя	Обоснование
А)	Вотчелав Борисович +	Упоминание Кийва +
Б)	Ярослав Владимирович + Киевский	Упоминание Дуная -
В)	Волгородский -	Упоминание Дуная и Волги -
Г)	Игорь Светославович +	Упоминание похода к Дону +
Д)	Светослав Киевский +	Упоминание Киева +

Задание 9. Заполните пробелы в тексте, представляющем из себя перевод древнерусского источника. Ответ оформите в виде перечня элементов под соответствующими номерами (максимальный балл - 10)

«Той же осенью пришел ордынский князь (1 - имя) \_\_\_\_\_ с единомышленниками своими и со всеми прочими князьями ордынскими и со всей силой татарской и половецкой, да еще кроме того отряды нанял басурман, армян, фрягов, черкесов, ясов и буртасов. Также с (1) \_\_\_\_\_ в единомыслии и в единой думе был и литовский (2 - имя) \_\_\_\_\_ со всей силою литовскою и польскою. С ними же в союзе был князь (3 - имя) \_\_\_\_\_ и со всеми этими сообщниками пошел на великого князя (4 - имя) \_\_\_\_\_ Ивановича и на брата его Владимира Андреевича... Окаянный же (1) \_\_\_\_\_, возгордившись и считая себя царем, начал осуществлять злой замысел, темных своих князей звать. И сказал им: «Пойдем на русского князя и на всю силу русскую, как при (5 - имя) \_\_\_\_\_ было, христианство уничтожим и церкви божии спалим, и кровь их прольем и законы их погубим». Это из-за того, что нечестивый люто гневался за своих друзей и любимцев, князей, убитых на реке (6 - название) \_\_\_\_\_...»

(4) \_\_\_\_\_ же князь, услышав в невеселое то время, что идут на него все царства, совершающие беззаконие, говоря: «Наша рука еще высока», пошел в соборную церковь... Встав после молитвы, вышел он из церкви и послал за братом своим Владимиром и за всеми князьями русскими и за воеводами великими. И сказал брату своему Владимиру

и всем князьям русским и воеводам: «Пойдем против этого окаянного и безбожного, нечестивого и темного сыроядца (1) \_\_\_\_\_, за правую веру христианскую, за святые церкви, за всех младенцев, и старцев и за всех христиан...» И соединившись со всеми князьями русскими и со всею силою, пошел он против них скоро из (7 – название города) \_\_\_\_\_, намереваясь оборонять свою отчину, и пришел в (8 – название города) \_\_\_\_\_, и собрал воинов своих 150 тысяч, кроме войска княжеского и воевод местных. От начала мира не бывало такой силы русских князей, как при этом князе. Было всей силы и всех войск с полтораста тысяч или с двести. Да еще к тому подоспели в ту пору военную издалека великие князья Ольгердовичи, чтобы поклониться и послужить: князь Андрей Полоцкий с псковичами и брат его, князь Дмитрий Брянский со всеми своими воинами.

В то время (1) \_\_\_\_\_ стал за (9 – название реки) \_\_\_\_\_, буйствуя, возгордившись и гневаясь со всем своим царством, и стоял три недели... И начал (1) \_\_\_\_\_ посылать к князю (4) \_\_\_\_\_ дани просить, как было при Чанибеке-царе, а не по своему соглашению... (3) \_\_\_\_\_ же, отступник наш, присоединившийся к зловердному и поганому (1) \_\_\_\_\_ и нечестивому (2) \_\_\_\_\_, начал дань ему отдавать и свою силу посылать к нему на князя (4) \_\_\_\_\_... И пошел он из (8) \_\_\_\_\_ с великой силой против безбожных татар 20 августа...

...Великий же князь пришел к реке (9) \_\_\_\_\_ за два дня до рождества святой богородицы... Пришли они к (9) \_\_\_\_\_, стали тут и много раздумывали. Одни говорили: «Пойди, князь за (9) \_\_\_\_\_», а другие сказали: «Не ходи, так как умножились враги наши, не только татары, но и Литва, и рязанцы»... (4) \_\_\_\_\_ сказал брату своему и всем князьям и воеводам великим: «Подошло, братья, время битвы нашей...» И велел мосты мостить и о бродах разузнавать в ту ночь. На следующий день, в субботу рано, 8 сентября, в самый праздник, во время восхода солнца была тьма великая по всей земле, мгла, не было света от утра до третьего часа... Князь же великий приготовил свои полки великие, и все его князья русские свои полки подготовили, и великие его воеводы оделись в одежды праздничные, и случайности смертельные уничтожились... Когда князь перешел за (9) \_\_\_\_\_ в чистое поле, в (1) \_\_\_\_\_ землю, на устье (10 – название реки) \_\_\_\_\_ господь бог один вел его...

И было это в шестой час дня, начали появляться поганые... И тут приготовились татарские полки против христиан, и встретились полки; и великие силы увидав, пошли, и гудела земля, горы и холмы тряслись от множества воинов бесчисленных... Когда бились они с шестого часа до девятого, пролилась, как дождевая туча, кровь обоих — русских сыновей и поганых... А (1) \_\_\_\_\_, в страхе затрепетав и сильно застонав, сказал: «Велик бог христианский и велика сила его...» И сам обратившись в бегство, быстро побежал обратно к орде... И гнали его до речки Мечи...»

**Ответ:**

1	Мамай	+
2	Ягайло	+
3	Олег Рязанский	+
4	Дмитрий	+

5	Батый	+
6	Бама	+
7	Москва	+
8	Каюна	+
9	Дон	+
10	Непрява	+

105

**Задание 10.** Внимательно изучите представленный ниже отрывок из документа и ответьте на вопросы к нему (максимальный балл – 10)

**Король:** Вы должны всё приготовить к нападению на ...; вы должны вести осаду и сказать нам, в какой день мы возьмём крепость.

**Гилленкрок:** Я думаю, что и сам Вобан призадумался бы, если б увидел, как здесь у нас недостаток во всём, что нужно для осады.

**Король:** У нас довольно материала, чтоб взять такую ничтожную крепость, как ...

**Гилленкрок:** Крепость не сильна, но в ней 4000 гарнизона, кроме козаков.

**Король:** Русские сдадутся при первом пушечном выстреле с нашей стороны.

**Гилленкрок:** А я думаю, что русские будут защищаться до последней крайности, и пехоте вашего величества сильно достанется от продолжительных осадных работ.

**Король:** Я вовсе не намерен употреблять на это мою пехоту, а запорожцы Мазепины на что?

**Гилленкрок:** Но разве можно употреблять на осадные работы людей, которые не имеют об них никакого понятия, с которыми надобно объясняться чрез толмачей и которые разбегутся, как скоро работа покажется им тяжёлой и товарищи их начнут падать от русских пуль?»

#### ВОПРОСЫ:

1. Какое событие описывается в источнике? В каком году оно произошло?
2. Назовите имя короля.
3. Король, обращаясь к собеседнику, утверждает: «Вы должны все приготовить к нападению на ...; вы должны вести осаду и сказать нам, в какой день мы возьмём крепость».

Какие аргументы приводит король в пользу того, что сделать это легко?

Какие аргументы приводит его собеседник в пользу того, что сделать это затруднительно?

Приведите по два аргумента, используя источник.

4.
  - 1) Чья позиция, короля или Гилленкрока, оказалась более реалистичной?
  - 2) Обоснуйте свой ответ, опираясь на знание исторических фактов. Приведите два обоснования.

#### Ответ:

- 1) Осады Полтавы шведской армией во время Северной войны.  
в 1709 году 20
- 2) Карл XII 1

Аргументы короля:

- 1) Непроходимость крепости
- 2) готовность русских войск быстро сдать её
- 3) достаточно сил армии для её взятия

Аргументы Гиленкрока:

- 1) Недостаток необходимого для осады
- 2) наличие мощного гарнизона в крепости
- 3) тяжесть осадных работ для армии

Желаем успеха!



Р/б

Муниципальный этап Всероссийской олимпиады школьников

21.11 2023 г.

Сведения об участнике:

Фамилия Матюшина

Имя Вероника

Отчество Викторовна

Класс обучения 9

Образовательная организация МОБУ Струвекая ООШ

Подпись участника 

ШИФР Участника: 105

\*Шифр заполняет координатор ВСОШ

ВСЕРОССИЙСКАЯ ОЛИМПИАДА ШКОЛЬНИКОВ ПО ИСТОРИИ  
МУНИЦИПАЛЬНЫЙ ЭТАП  
Приморский край. 2023-2024 уч. г.  
9 КЛАСС

Время выполнения – 90 минут  
Максимальное количество баллов – 100

Задание 1. По какому принципу образованы ряды? Кто или что является лишним в ряду? Вычеркните лишнее и дайте объяснение, почему? Ответы без объяснения не оцениваются! (максимальный балл – 10)

«Повесть о Фоме и Ереме», «Повесть о Петре и Февронии», «Повесть о Ерше Ершовиче», «Повесть о Куре и Лисице».

Принцип литературные произведения 17 века

Исключение «Повесть о Петре и Февронии» написана в 1540г. +

Осада Полоцка, битва при Добрыничах, битва при Чашниках, оборона Пскова.

Принцип события 16 века

Исключение «Битва при Добрыничах» произошла в начале 17 века +

Стефан Вонифатьев, Стефан Яворский, протопоп Аввакум, патриарх Никон.

Принцип родился в 17 веке

Исключение Стефан Вонифатьев – родился в 16 веке. +

Днепр, Дон, Ильмень, Ловать, Волхов, Ладожское озеро.

Принцип это реки

Исключение Ильмень и Ладожское озеро – это озера –

Бояре, почетные граждане, думные дворяне, стольники, окольные.

Принцип «чины» государственного двора» в XVII +

Исключение почетные чины +

45

Задание 2. Соотнесите события отечественной и всеобщей истории (максимальный балл – 10)

Событие отечественной истории	Событие всеобщей истории
А. Строительство красного кирпичного Кремля в Москве	1. Первое кругосветное плавание Магеллана
Б. Соляной бунт в Москве	2. Варфоломеевская ночь в Париже
В. Завершение правления Ярослава	3. Открытие Америки Колумбом

Мудрого Г. Завершение опричнины Д. Правление Симеона Гордого Е. Правление Михаила Федоровича Ж. Правление Бориса Годунова З. Восстание под предводительством Степана Разина И. Завершение «Феодальной войны» за московский престол К. Присоединение Рязани к Москве	4. Завершение Столетней войны 5. «Великая схизма» католической и православной церковей 6. Суд над Джордано Бруно 7. Деятельность кардинала Ришелье 8. Завершение Тридцатилетней войны 9. Строительство Версаля 10. «Черная смерть» в Западной Европе
--	--

Ответ:

А	Б	В	Г	Д	Е	Ж	З	И	К
3	8	5	2	10	7	6	9	4	1

Соотнесите фамилии известных российских дипломатов и названия подписанных ими мирных договоров. Укажите даты подписания договоров. Ответ оформите в таблицу (максимальный балл – 10)

Фамилия дипломата	Мирный договор
1. Безбородко А. А.	А. Андрусовское перемирие
2. Головин Ф.А.	Б. Нерчинский договор
3. Ордин-Нащокин А.Л.	В. Ништадтский договор
4. Остерман А. И.	Г. Прутский мир
5. Шафиров П.П.	Д. Ясский мирный договор

Ответ:

Дипломат	Договор (Буква)	Дата
Безбородко А. А.	Д +	1791 +
Головин Ф.А.	Б +	1689 +
Ордин-Нащокин А.Л.	В +	1667 +
Остерман А. И.	Г +	1721 +
Шафиров П.П.	А +	1711 +

Задание 4. Верно ли утверждение? Ответ оформите в виде таблицы (максимальный балл – 10)

1. До царствования Петра I Россия никогда не имела выхода к Балтийскому морю
2. Экономические крестьяне – это крестьяне, которые во второй половине XVIII в. получили право уходить на время в города на заработки.
3. Воевода – глава уезда в России в XVII в.
4. С принятием Соборного Уложения дворяне утратили право передавать вотчины по наследству.
5. Барокко – стиль в архитектуре, преобладавший в России в первой половине – середине XVIII в.
6. Предводитель дворянства – согласно Жалованной грамоте дворянству выборный глава уездной или губернской дворянской корпорации.

- Местничеством применительно к XV – XVII вв. называется вся совокупность правил и принципов организации местной власти в России.
- Засеки стали впервые использоваться для защиты Руси от кочевников при Владимире
- Меркантилизм – государственная политика в России XVII – XVIII в., ставившая своей главной целью обогащение российского купечества.
- Урочные лета – это срок, в течение которого было разрешено искать беглых крестьян для возвращения прежним владельцам.

Ответ:

Верно	Неверно
7 4 6 5 8 10 + + + + +	2 3 5 1 4 7 9 + + + + +

10

Задание 5. Перед вами марки, на которых изображены кремли некоторых городов России. Определите, в каких городах располагаются эти кремли, соотнесите их с фактами из их истории. Ответ оформите в виде таблицы (максимальный балл –

<p><b>1</b></p> 	<p><b>2</b></p> 
<p><b>3</b></p> 	<p><b>4</b></p> 

5

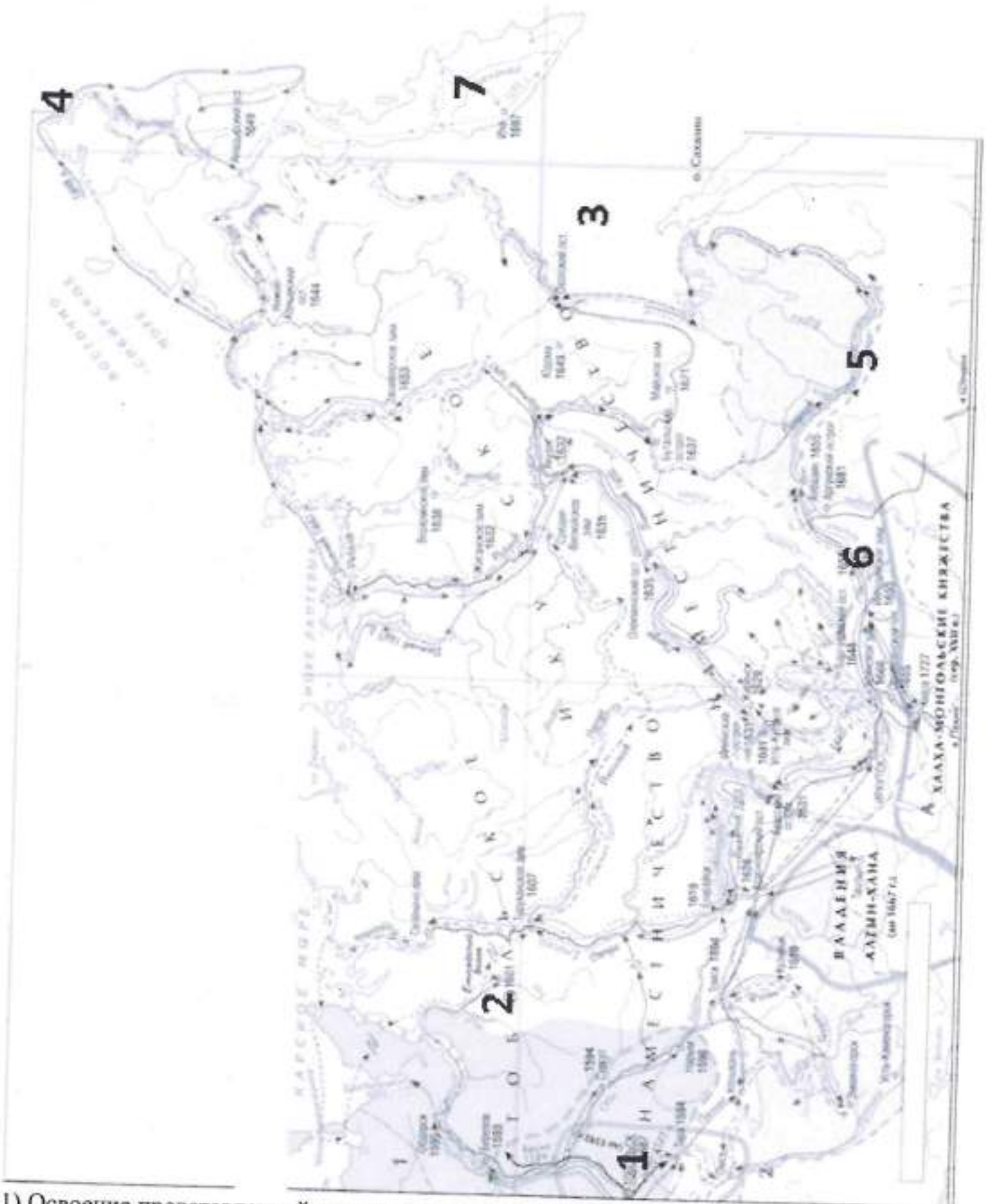


- А) На специально построенной колокольне в кремле некоторое время висел «ссылный» набатный колокол из Углича, в который звонили горожане после убийства царевича Дмитрия.
- Б) Кремль выдержал осаду войск Пугачёва в 1774 г.
- В) В кремле находятся Михайло-Архангельский собор, где ныне похоронен Кузьма Минин.
- Г) Иранский дипломат Орудж-бек Баят, посетивший кремль в 1599 году, в своих записках заключает: «Дома в Кремле построены в стиле итальянских архитекторов и украшены красивыми орнаментами. Дворец царя особенно красив...»
- Д) Благодаря самоотверженности горожан и умелому руководству И.П. Шуйского кремль целых полгода держал оборону от польско-литовских войск.

Ответ:

Изображения	Города	Факты из истории
1	Киевский Новгород +	В +
2		А +
3		Г +
4	Тюль +	Д +
5	Казань +	Б +

Задание 6. Внимательно рассмотрите карту и заполните пропуски в предложениях. Ответы внесите в таблицу (максимальный балл – 10)



- 1) Освоение представленной на карте части России началось с разгрома (А – название) ханства, обозначенного на карте цифрой 1, казаками во главе с (Б – имя).
- 2) Крупным центром меновой торговли в Сибири был «златокипящий» город (В – название), обозначенный на карте цифрой 2, исчезнувший в XVII веке, и долгое время считавшийся легендарным.

- 3) Первым к (Г – название) морю, обозначенному на карте цифрой 3, вышел (Д – фамилия), ставший первым европейцем, вышедшим к Тихому океану с запада.
- 4) Первыми через пролив, обозначенный на карте цифрой 4, проплыли (Е – фамилия) и Ф.А. Попов, но их донесение затерялось в Якутском архиве, поэтому пролив получил название в честь руководителя Камчатских экспедиций (Ж – фамилия).
- 5) Реку, обозначенную цифрой 5, и земли вокруг неё исследовал (З – фамилия), в честь которого названа столица одного из субъектов Российской Федерации.
- 6) В городе (И – название), обозначенном на карте цифрой 6, был подписан первый договор между Россией и империей Цин.
- 7) Полуостров, обозначенный на карте цифрой 7, первым исследовал (К – фамилия), названный А.С. Пушкиным Ермаком полуострова.

Ответ:

А	Сидирцев	+
Б	Ермаков	+
В	Мамозеев	+
Г	Охотского	+
Д	И. Ю. Москви	+
Е	С. И. Дежнев	+
Ж	В. Беринга	+
З	З. П. Хабаров	+
И	Моршкет	+
К	В. В. Атласкин	+

105

Задание 7. Перед Вами несколько картин, в основу которых положены исторические события, связанные с деятельностью одного из правителей России. Вспомните этого правителя и расположите картины в хронологической последовательности изображенных на них событий. Укажите дату события. Ответ оформите в виде таблицы (максимальный балл – 10)





Ответ:  
Правитель

Последовательность	Буквенное обозначение картины	Событие, изображенное на картине	Дата
1	Б	Стрелецкий бунт +	1682г +
2	В	Подавление стрелецкого бунта +	1698г +
3	А	Взятие Петербурга +	1703г +
4	Г	Полтавская битва ✓	1709г ✓

Задание 8. Перед Вами отрывки из «Слово о полку Игореве», известного произведения древнерусской литературы. Определите, о каких князьях идёт речь в каждом из указанных отрывков (Обязательно обоснуйте свой ответ). Ответ оформите в виде таблицы (максимальный балл – 10)

<p>А) (Имя) князь людемь судяше, княземь грады рядяше, а самь въ ночь влькомь рыскаше: изъ Кыева дорискаше до курь Тмутороканя, великому Хрьсови влькомь путь прерыскаше. Тому въ Полотьске позвониша заутренюю рано у святыя Софеи въ колоколы, а онь въ Кыеве звон слыша. Аще и веща душа въ дерзе теле, нъ часто беды страдаше...</p>	<p>В) Великий княже (имя)! Не мыслию ти прелетети издалеча, отня злата стола поблюсти? Ты бо можеша Волгу веслы раскропити, а Донь шелома выльяти! Аже бы ты былъ, то была бы чага по ногате, а кощей по резане. Ты бо можеша посуху живыми шерешеры стреляти - удалыми сыны Глебовы...</p>
<p>Б) Галичкы (имя)! Высоко седиши на своемь златокованнемь столе, подперь горы Угорскыи</p>	<p>Г) (Имя) к Дону вои ведет. Уже бо беды его пасет птиць по дубию; волци грозу въерожат по яругам; орли клетком на кости звери зовут; лисици брешут на черленыя щиты. О Руская земле, уже за шеломянем еси!</p>



своими железными плъки, заступивъ королеви путь, затворивъ Дунаю ворота, меча бремены чрезъ облакы, суды ряда до Дуная...	Д) А (имя) мутень сонъ виде въ Кieve на горахъ. "Си ночь, съ вечера, одевахуть мя - рече - чръною паполомою на кровати тисове; чръпахуть ми синее вино, с трудомъ смешено; сыпахуть ми тьщими тулы поганыхъ тльковинъ великый женчюгъ на лоно и негують мя...
---	---

Ответ:

Отрывок (буква)	Имя князя	Обоснование
А)	Веслав Фрелиславич <sup>+</sup>	Упоминание Талочка и Клева в выписке в колдовстве
Б)	Ярослав Ташукиш <sup>+</sup>	Упоминание Ташма, Карских гор и Дуная
В)	Веславъ Ташуко Трудо	
Г)	Игорь Святославич Ковчарод - Северский <sup>+</sup>	Упоминание похода к Дону
Д)	Святослав Киевский	Упоминание Клева

Задание 9. Заполните пробелы в тексте, представляющем из себя перевод древнерусского источника. Ответ оформите в виде перечня элементов под соответствующими номерами (максимальный балл – 10)

«Той же осенью пришел ордынский князь (1 - имя) \_\_\_\_\_ с единомышленниками своими и со всеми прочими князьями ордынскими и со всей силой татарской и половецкой, да еще кроме того отряды нанял басурман, армян, фрягов, черкесов, ясов и буртасов. Также с (1) \_\_\_\_\_ в единомыслии и в единой думе был и литовский (2 - имя) \_\_\_\_\_ со всей силою литовскою и польскою. С ними же в союзе был князь (3 - имя) \_\_\_\_\_ и со всеми этими сообщниками пошел на великого князя (4 - имя) \_\_\_\_\_ Ивановича и на брата его Владимира Андреевича... Окаянный же (1) \_\_\_\_\_, возгордившись и считая себя царем, начал осуществлять злой замысел, темных своих князей звать. И сказал им: «Пойдем на русского князя и на всю силу русскую, как при (5 - имя) \_\_\_\_\_ было, христианство уничтожим и церкви божии спалим, и кровь их прольем и законы их погубим». Это из-за того, что нечестивый люто гневался за своих друзей и любимцев, князей, убитых на реке (6 - название) \_\_\_\_\_...

(4) \_\_\_\_\_ же князь, услышав в невеселое то время, что идут на него все царства, совершающие беззаконие, говоря: «Наша рука еще высока», пошел в соборную церковь...

Встав после молитвы, вышел он из церкви и послал за братом своим Владимиром и за всеми князьями русскими и за воеводами великими. И сказал брату своему Владимиру

5	Тамил	+
6	Ворна	+
7	Масева	+
8	Каловна	+
9	Фон	+
10	Кепр-суба	+

105

**Задание 10.** Внимательно изучите представленный ниже отрывок из документа и ответьте на вопросы к нему (максимальный балл – 10)

**«Король:** Вы должны всё приготовить к нападению на ...; вы должны вести осаду и сказать нам, в какой день мы возьмём крепость.

**Гилленкрок:** Я думаю, что и сам Вобан призадумался бы, если б увидел, как здесь у нас недостаток во всём, что нужно для осады.

**Король:** У нас довольно материала, чтоб взять такую ничтожную крепость, как ...

**Гилленкрок:** Крепость не сильна, но в ней 4000 гарнизона, кроме козаков.

**Король:** Русские сдадутся при первом пушечном выстреле с нашей стороны.

**Гилленкрок:** А я думаю, что русские будут защищаться до последней крайности, и пехоте вашего величества сильно достанется от продолжительных осадных работ.

**Король:** Я вовсе не намерен употреблять на это мою пехоту, а запорожцы Мазепины на что?

**Гилленкрок:** Но разве можно употреблять на осадные работы людей, которые не имеют об них никакого понятия, с которыми надобно объясняться чрез толмачей и которые разбегутся, как скоро работа покажется им тяжёлой и товарищи их начнут падать от русских пуль?»

**ВОПРОСЫ:**

1. Какое событие описывается в источнике? В каком году оно произошло?
2. Назовите имя короля.
3. Король, обращаясь к собеседнику, утверждает: «Вы должны все приготовить к нападению на ...; вы должны вести осаду и сказать нам, в какой день мы возьмём крепость». Какие аргументы приводит король в пользу того, что сделать это легко? Какие аргументы приводит его собеседник в пользу того, что сделать это затруднительно?
4. Приведите по два аргумента, используя источник.

- 1) Чья позиция, короля или Гилленкрока, оказалась более реалистичной?
- 2) Обоснуйте свой ответ, опираясь на знание исторических фактов. Приведите два обоснования.

**Ответ:**

1) Осада Тамави 1709г +  
 2) Карл XII -  
 3) Аргументы короля +  
 1) неготовность крепости +  
 2) достаточность сил армии для её взятия +  
 3) готовность русских войск быстро сдаться 5

Аргументы короля:

Аргументы Гиленкрока:

*Желаем успеха!*

и всем князьям русским и воеводам: «Пойдем против этого окаянного и безбожного, нечестивого и темного сыроядца (1) \_\_\_\_\_, за правую веру христианскую, за святые церкви, за всех младенцев, и старцев и за всех христиан...» И соединившись со всеми князьями русскими и со всею силою, пошел он против них скоро из (7 – название города) \_\_\_\_\_, намереваясь оборонять свою отчину, и пришел в (8 – название города) \_\_\_\_\_, и собрал воинов своих 150 тысяч, кроме войска княжеского и воевод местных. От начала мира не бывало такой силы русских князей, как при этом князе. Было всей силы и всех войск с полтораста тысяч или с двести. Да еще к тому подоспели в ту пору военную издалека великие князья Ольгердовичи, чтобы поклониться и послужить: князь Андрей Полоцкий с псковичами и брат его, князь Дмитрий Брянский со всеми своими воинами.

В то время (1) \_\_\_\_\_ стал за (9 – название реки) \_\_\_\_\_, буйствуя, возгордившись и гневаясь со всем своим царством, и стоял три недели... И начал (1) \_\_\_\_\_ посылать к князю (4) \_\_\_\_\_ дани просить, как было при Чанибеке-царе, а не по своему соглашению... (3) \_\_\_\_\_ же, отступник наш, присоединившийся к зловердному и поганому (1) \_\_\_\_\_ и нечестивому (2) \_\_\_\_\_, начал дань ему отдавать и свою силу посылать к нему на князя (4) \_\_\_\_\_... И пошел он из (8) \_\_\_\_\_ с великой силой против безбожных татар 20 августа...

...Великий же князь пришел к реке (9) \_\_\_\_\_ за два дня до рождества святой богородицы... Пришли они к (9) \_\_\_\_\_, стали тут и много раздумывали. Одни говорили: «Пойди, князь за (9) \_\_\_\_\_», а другие сказали: «Не ходи, так как умножились враги наши, не только татары, но и Литва, и рязанцы»... (4) \_\_\_\_\_ сказал брату своему и всем князьям и воеводам великим: «Подошло, братья, время битвы нашей...» И велел мосты мостить и о бродах разузнавать в ту ночь. На следующий день, в субботу рано, 8 сентября, в самый праздник, во время восхода солнца была тьма великая по всей земле, мгла, не было света от утра до третьего часа... Князь же великий приготовил свои полки великие, и все его князья русские свои полки подготовили, и великие его воеводы оделись в одежды праздничные, и случайности смертельные уничтожились... Когда князь перешел за (9) \_\_\_\_\_ в чистое поле, в (1) \_\_\_\_\_ землю, на устье (10 – название реки) \_\_\_\_\_ господь бог один вел его...

И было это в шестой час дня, начали появляться поганые... И тут приготовились татарские полки против христиан, и встретились полки; и великие силы увидав, пошли, и гудела земля, горы и холмы тряслись от множества воинов бесчисленных... Когда бились они с шестого часа до девятого, пролилась, как дождевая туча, кровь обоих — русских сыновей и поганых... А (1) \_\_\_\_\_, в страхе затрепетав и сильно застонав, сказал: «Велик бог христианский и велика сила его...» И сам обратившись в бегство, быстро побежал обратно к орде... И гнали его до речки Мечи...»

Ответ:

1	Мамай	+
2	Атаман	+
3	Алекс Иванович Рязанский	+
4	Дмитрий	+