

665

Муниципальный этап Всероссийской олимпиады школьников

21.11 2023 г.

Сведения об участнике:

Фамилия Шерматов

Имя Алиса

Отчество Витальевна

Класс обучения 7

Образовательная организация МОБУ Струковская ОШ

Подпись участника Шерматов

ШИФР Участника: 101

*Шифр заполняет координатор ВСОШ

ВСЕРОССИЙСКАЯ ОЛИМПИАДА ШКОЛЬНИКОВ ПО ИСТОРИИ
МУНИЦИПАЛЬНЫЙ ЭТАП

Приморский край. 2023-2024 уч. г.

7 КЛАСС

Время выполнения – 90 минут

Максимальное количество баллов – 100

104
668

Задание 1. По какому принципу образованы ряды? Кто или что является лишним в ряду? Вычеркните лишнее и дайте объяснение, почему? Ответы без объяснения не оцениваются! (Максимальный балл – 10)

~~882 г.~~, 907 г., 911 г., 944 г., 971 г.

Принцип соответствие связанным и безаппетитной 1

Исключение 882 г. образование Древнерусского государства 1

Ногата, Гривна, Векша, Куна, Куна

Принцип монета 0

Исключение Куна - это движение воды 0

972–980 гг., 1015–1019 гг., 1073–1076 гг., 1125–1132 гг.

Принцип Междоусобные войны 1

Исключение 1073 - 1076 гг. время княжеского правления на Руси 0

Днепр, Дон, Ильмень, Ловать, Волхов, Ладожское озеро

Принцип реки 0

Исключение Ладожское озеро 0

Меря, Мещера, Весь, Муром, Вятичи

Принцип русские племена 0

Исключение Весь 0

2

Задание 2. Восстановите хронологический порядок исторических событий, перечисленных ниже. Ответ запишите в таблицу. (Максимальный балл – 10)

А) «Стояние» на реке Угре

Б) битва на реке Сити

- В) Куликовская битва
- Г) начало междоусобной войны в Московском княжестве
- Д) начало первого крестового похода
- Е) окончание Столетней войны
- Ж) подписание «Великой Хартии вольностей»
- З) строительство Софийского Собора в Киеве
- И) строительство церкви Вознесения в Коломенском
- К) Флорентийская уния

Ответ:

Последовательность	1	2	3	4	5	6	7	8	9	10
Событие (Буква)	З	Д	Ж	Б	В	Г	К	Е	А	И

10

Задание 3. Выполните задания на соотнесение. (Максимальный балл - 10).

3.1. Найдите современников. Ответ запишите в таблицу. (Максимальный балл - 5)

А. Рюрик	1. Мартин Лютер
Б. Василий II	2. Кирилл и Мефодий
В. Иван Калита	3. Христофор Колумб
Г. Юрий Долгорукий	4. Франческо Петрарка
Д. Иван III	5. Фридрих Барбаросса

Ответ:

А	Б	В	Г	Д
2	1	4	5	3

3.2. Соотнесите названия мер сыпучих и жидких тел, мер длины и мер площади, бытовавших на Руси, с самими предметами измерения. Ответ запишите в таблицу. (Максимальный балл - 5)

А. Десятина	1. Мед
Б. Локоть	2. Соль
В. Половник	3. Участок земли
Г. Рогожа	4. Полотно
Д. Бочка	5. Зерно

Ответ:

А	Б	В	Г	Д
3	4	2	5	1

Задание 4. Верно ли утверждение? Ответ оформите в виде таблицы
Максимальный балл - 10)


1. В домонгольской Руси из камня строились только храмы?



- 2. Московский белокаменный Кремль впервые выдержал осаду во время похода великого князя литовского Ольгерда на Москву?
- 3. Иван III первым из московских князей женился на иностранке?
 - . Князь, приглашенный править в Новгороде, не мог одновременно занимать другой княжеский стол?
 - . Засеки стали впервые использоваться для защиты Руси от кочевников при Владимире
- . Александр Невский был первым русским князем, получившим ярлык на великое княжение от хана Золотой Орды?
- . В домонгольский период глава русской церкви – митрополит – назначался константинопольским патриархом?
- . Варяги называли Русь «Гардарики».
- . Первое летописное упоминание о Москве относится к 1147 году, а образование Московского княжества – к 1276 году.
- . Решение Любечского съезда князей («каждо да держит отчину свою») положило начало периоду политической раздробленности Древнерусского государства.

Ответ:

Верно	Неверно
1, 4, 5, 6, 7, 8, 10 - - + - + + -	2, 3, 9 - + -

Задание 5. Изучите изображения архитектурных памятников. В таблице ответа укажите их название и место нахождения. (Максимальный балл – 10).





Ответ:

№ п/п	Название архитектурного памятника	Место нахождения
1	Золотые Ворота	Владимир
2	Церковь покрова на Нерли	Богomoедово
3	Церковь Вознесения Господня	Москва
4	Теремный город Юрьева монастыря	Новгород
5	Нарские башни	Дерзвенская область

Задание 6. Среди перечисленных князей – пять пар современников, которым случалось сражаться друг против друга в усобицах. Выделите эти пары, а если удастся – назовите также, при каких обстоятельствах, когда и где им приходилось сталкиваться на поле боя (Максимальный балл – 10).

- А) Василий Васильевич Темный
- Б) Дмитрий Юрьевич Шемяка
- В) Михаил Ярославич Тверской
- Г) Мстислав Мстиславич Удалой
- Д) Олег Древлянский
- Е) Святополк Окаянный
- Ж) Юрий Всеволодович

-) Одним из последствий похода, обозначенного на карте черными стрелками, стал распад Золотой Орды.
-) Город, обозначенный на карте цифрой 2, был основным противником Москвы в борьбе за ярлык на великое княжение.
-) На карте обозначен город, который семь недель оказывал сопротивление монголам и был назван Батыем «Злым городом».
-) Город, обозначенный на карте цифрой 5, был основан после завершения второго похода Батгя на Русь.
-) В период событий, обозначенных на карте, города Минск и Киев находились под властью правителей из династии Гедиминовичей.

Ответ:

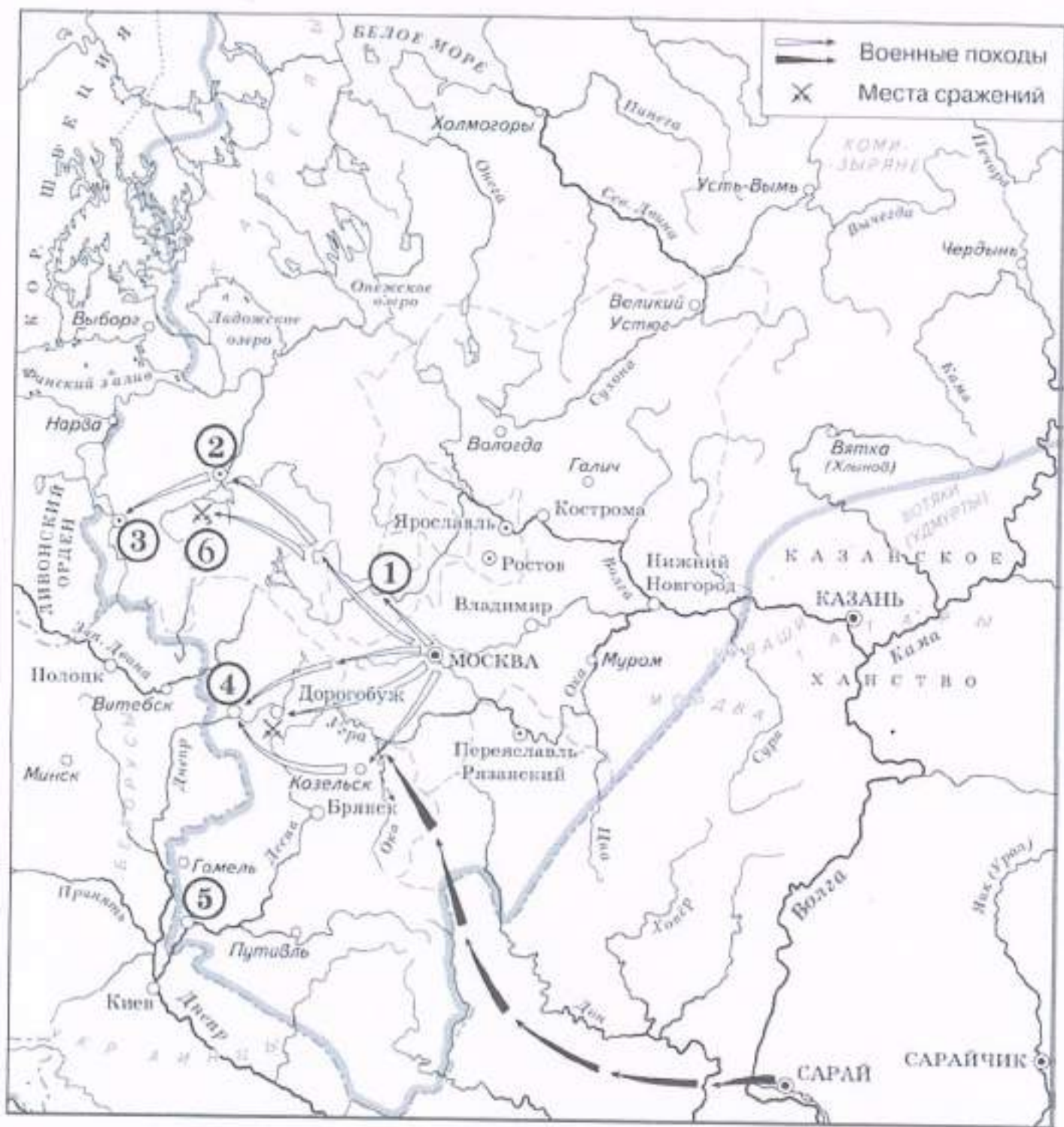
2,1		
2,2	И четверть	0
2,3	Иван III	1
2,4		
2,5	Новгородский	1

Верно	Неверно
3, 5, 4 + +	2, 1 + +

Задание 10. Определите пропущенные в тексте названия, слова, имена, даты, обозначенные порядковыми номерами. При необходимости при порядковых номерах даются пояснения о характере требуемой вставки. Необходимые вставки впишите рядом с соответствующими номерами в помещённую ниже таблицу. (Максимальный балл – 10)

«В 1326 году тверской князь (1 – имя) получил (2 – термин) на великое княжение (3 – название княжества). Но уже через год произошло событие, кардинально изменившее соотношение сил в борьбе за великокняжеский престол – в Твери вспыхнуло восстание.

В Тверь приехал ханский посол по имени (4), как его называют наши летописи, двоюродный брат хана. Посольство заняло княжеский дворец и, согласно летописям, чинило всяческие беззакония. 15 августа рано утром некий дьякон по прозвищу Дудко повёл лошадь к (5 – река), чтобы напоить её. Случившиеся на его пути татары, завидев «кобылицу младу и зело тучну», без лишних слов отняли лошадь. Дьякон стал вопить: «Люди тверские, не выдайте!» Между тверичами и татарами началась драка. Схватка переросла в побоище. Загудели тревожно городские колокола. Толпы народа собрались на (6 – орган самоуправления), где было решено всем городом выступить против ордынцев. Вооружившись чем попало, тверичи кинулись на врагов. Весь посольский отряд был уничтожен.



Назовите процесс в истории Российского государства, завершение которого нашло отражение на данной карте?

Укажите когда, (с точностью до четверти века) установилась граница Российского государства, обозначенная на карте.

Назовите московского правителя, при котором города, обозначенные цифрами 1 и 2, потеряли свою независимость.

Назовите предводителя похода, обозначенного на карте черными стрелками.

Укажите название московского монастыря, основанного московским государем в благодарность за овладение городом, обозначенным на карте цифрой 4.

Оцените представленные ниже суждения. Ответ внесите в таблицу.

За ... раны —

Удалого сына Святославича!..

Ответ:

Группа	Событие	Год	Исторические деятели
1.	Невская битва ↑	1240 ↑	Александр Невский Тевтонский орден
3.			

Задание 9. Внимательно рассмотрите карту и выполните задания. Ответ внесите в таблицу. (Максимальный балл – 10)



Ответ:

Номер картины	Имя князя	Дата события
1	Алег Великий 1	911 1
2	Святослав 1	971 1
✓ 3	Владимир 1	988 1
4	Дмитрий -	-

	Иван III	1	1479	1
--	----------	---	------	---

Задание 8. Ниже приводятся отрывки из различных документов, литературных произведений, связанных каким-то одним историческим сюжетом из российской истории. Определите, какое событие объединяет каждую группу документов. Напишите год события и имена трех исторических (отечественных и зарубежных) деятелей, с которыми это событие связано. Ответ внесите в таблицу. (Максимальный балл – 10)

1. А. «Окончив молитву, ... встал и поклонился архиепископу. Архиепископ же благословил его и отпустил. Он же вышел из церкви, утер слезы и начал крепить дружину свою, говоря:

- Не в силе Бог, но в правде...»

Б. «Здесь же в полку... явилось 6 мужей храбрых, которые с ним крепко сражались. Один – Он наехал на вражеский шнек и въехал по доске до самого корабля. И побежали враги на корабль от него, а затем обернулись и сбросили его с доски с конем в воду. Божьею милостью он вышел из рек невредим и снова наехал на врагов и бился с самим воеводой среди полка их...»

2. А. «... же ответил:

– Братья и дружина! Тайн Божьих никто не ведает. Бог - творец и знаменям и всему миру сему. Мы же после увидим, что нам Бог даст – добро или зло...

Дружинники князя и вои перешли Дон...

На другой день в пятницу встретили полки половецкие. Они собрались от мала до велика и стояли на другой стороне реки Суюрлий...

– Братья, этого мы сами искали. Сразимся же с ними ...»

Б., князь галицкий! Твой град

Высоко стоит под облаками.

Оседлал вершины ты Карпат

И подпер железными полками.

На своем престоле золотом

Восемь дел ты, князь, решаешь разом,

И народ зовет тебя кругом

Осмомыслом — за великий разум.

Дверь Дуная заперев на ключ,

Королю дорогу заступая,

Бремена ты мечешь выше туч,

Суд вершишь до самого Дуная.



Власть твоя по землям потекла,

В Киевскиеходишь ты пределы,

И в салтанов с отчего стола

Ты пускаешь княжеские стрелы.

За Русскую землю,



З) Юрий Данилович Московский

И) Ярополк Святославич

К) Ярослав Мудрый

Ответ:

Пара	Имя (Буква)	Обстоятельства
1	Е - К А - Б 1	феодалынная война 1
2	В - З 1	
3	Г - Ж 1	Междоусобная война между сыновьями
4	Д - И 1	первая междоусобная война на Руси 1
5	Е - К 1	Междоусобная война за Киевский престол 1015 - 1019 1

8

Задание 7. Перед Вами несколько картин, в основу которых положены исторические события, связанные с деятельностью русских князей. Укажите имя (прозвище) князя и дату события. Ответ оформите в виде таблицы. Максимальный балл - 10)



Узнав о случившемся, хан (7 – имя) послал на Тверь крупное войско. Призванный в (8 – государство), московский князь (9 – имя) шёл вместе с ним. Тверское княжество подверглось сильному разорению. Тверской князь бежал в Новгород; новгородцы его не приняли, и бывший великий князь отправился в соседний (10 – город). По вопросу о великом княжении хан принял неординарное решение: оно было поделено между двумя князьями: московским и суздальским».

Ответ:

1		
2	Ярлык	1
3	Владимирское княжество	1
4		
5	Валки	1
6		
7	Суздаль	1
8	Золотая орда	1
9	Иван Калита	1
10	Псков	1

Желаем успеха!

635

7кл.

Муниципальный этап Всероссийской олимпиады школьников

21.11 2023 г.

Сведения об участнике:

Фамилия Линьковский
Имя Евгений
Отчество Александрович
Класс обучения 7А
Образовательная организация Покровская СОШ

Подпись участника Е

ШИФР Участника: 005

*Шифр заполняет координатор ВСОШ

ВСЕРОССИЙСКАЯ ОЛИМПИАДА ШКОЛЬНИКОВ ПО ИСТОРИИ
МУНИЦИПАЛЬНЫЙ ЭТАП

Приморский край. 2023-2024 уч. г.

7 КЛАСС

Время выполнения – 90 минут

Максимальное количество баллов – 100

Задание 1. По какому принципу образованы ряды? Кто или что является лишним в ряду? Вычеркните лишнее и дайте объяснение, почему? Ответы без объяснения не оцениваются! (Максимальный балл – 10)

1.1. 882 г., 907 г., 911 г., ~~944~~ г., 971 г.

Принцип 882- образование Руси 907- Война Руси с Византией 911- мирный договор с Византией 944 971- правление Святослава

Исключение 944

1.2. Ногата, Гривна, Векша, Куна, ~~Куда~~

Принцип Деревянные в древнерусской посуде 1

Исключение Куна - для кремней 1

1.3. 972–980 гг., 1015–1019 гг., 1073–1076 гг., 1125–~~1132~~ гг.

Принцип Все это между двумя войнами, а 1125-1132 Правление Мстислава 1

Исключение 1125-1132 - мирное - это правление, а не между войнами 1

1.4. Днепр, Дон, Ильмень, Ловать, Волхов, Ладожское озеро

Принцип все это реки, а Ладожское озеро - это озеро

Исключение Ладожское озеро - это озеро, а не река -

1.5. Меря, Мещера, Весь, Муром, ~~Вятчи~~

Принцип Ямские племена 1

Исключение Вятчи - это народ на Руси - славяне 1

6

Задание 2. Восстановите хронологический порядок исторических событий, перечисленных ниже. Ответ запишите в таблицу. (Максимальный балл – 10)

А) «Стояние» на реке Угре

Б) битва на реке Сити

- В) Куликовская битва
 Г) начало междоусобной войны в Московском княжестве
 Д) начало первого крестового похода
 Е) окончание Столетней войны
 Ж) подписание «Великой Хартии вольностей»
 З) строительство Софийского Собора в Киеве
 И) строительство церкви Вознесения в Коломенском
 К) Флорентийская уния

Ответ:

Последовательность	1	2	3	4	5	6	7	8	9	10
Событие (Буква)	З	Д	А	И	Б	Ж	В	К	Е	Г

+ + - - - - - - - -

Задание 3. Выполните задания на соотнесение. (Максимальный балл – 10).

3.1. Найдите современников. Ответ запишите в таблицу. (Максимальный балл – 5)

А. Рюрик	1. Мартин Лютер
Б. Василий II	2. Кирилл и Мефодий
В. Иван Калита	3. Христофор Колумб
Г. Юрий Долгорукий	4. Франческо Петрарка
Д. Иван III	5. Фридрих Барбаросса

Ответ:

А	Б	В	Г	Д
2	4	3	5	1

+ - - + -

3.2. Соотнесите названия мер сыпучих и жидких тел, мер длины и мер площади, бытовавших на Руси, с самими предметами измерения. Ответ запишите в таблицу. (Максимальный балл – 5)

А. Десятина	1. Мед
Б. Локоть	2. Соль
В. Половник	3. Участок земли
Г. Рогожа	4. Полотно
Д. Бочка	5. Зерно

Ответ:

А	Б	В	Г	Д
3	4	2	1	5

+ + - - -

Задание 4. Верно ли утверждение? Ответ оформите в виде таблицы (Максимальный балл – 10)



1. В домонгольской Руси из камня строились только храмы?

2. Московский белокаменный Кремль впервые выдержал осаду во время похода великого князя литовского Ольгерда на Москву?
3. Иван III первым из московских князей женился на иностранке?
4. Князь, приглашенный править в Новгороде, не мог одновременно занимать другой княжеский стол?
5. Засеки стали впервые использоваться для защиты Руси от кочевников при Владимире I.
6. Александр Невский был первым русским князем, получившим ярлык на великое княжение от хана Золотой Орды?
7. В домонгольский период глава русской церкви – митрополит – назначался константинопольским патриархом?
8. Варяги называли Русь «Гардарики».
9. Первое летописное упоминание о Москве относится к 1147 году, а образование Московского княжества – к 1276 году.
10. Решение Любечского съезда князей («каждо да держит отчину свою») положило начало периоду политической раздробленности Древнерусского государства.

Ответ:


Верно	Неверно
6, 7, 3, 2.	10, 5, 5, 8, 4, 1

Задание 5. Изучите изображения архитектурных памятников. В таблице ответа укажите их название и место нахождения. (Максимальный балл – 10).

<p>1</p> 	<p>2</p> 
<p>3</p>	<p>4</p>



5



Ответ:

№ п/п	Название архитектурного памятника	Место нахождения
1	Золотые ворота 1	Киев, Владимир 1
2	Цепельский собор -	Зовура -
3	Церковь Вознесения 1	Мошва 1
4	Соринский собор -	Киев. -
5		

Задание 6. Среди перечисленных князей – пять пар современников, которым случалось сражаться друг против друга в усобицах. Выделите эти пары, а если удастся – назовите также, при каких обстоятельствах, когда и где им приходилось сталкиваться на поле боя (Максимальный балл – 10).

- А) Василий Васильевич Темный
- Б) Дмитрий Юрьевич Шемяка
- В) Михаил Ярославич Тверской
- Г) Мстислав Мстиславич Удалой
- Д) Олег Древлянский
- Е) Святополк Окаянный
- Ж) Юрий Всеволодович

В) Юрий Данилович Московский

И) Ярополк Святославич

Ж) Ярослав Мудрый

Ответ:


Пара	Имя (Буква)	Обстоятельства
1	А Б 1	Великий князь был сыном Владимира I, а Дмитрий был братом Владимира I, в то время Владимир II был ребенком, и из-за этого Дмитрий хотел захватить власть
2	Е К 1	Ярослав мудрый был братом Святослава Опаленного и они были соновьями Владимира Свѣтлого и из-за того что Святослав ушел братьев Бориса и Глеба, они начали править
3	В З 1	Тверь и мстиславская земля за великим и они великим и великим князем
4	М Г 1	Во время улобич и мстиславского княжества великим князем сдружен сыновья Всеволода Гомельского и из-за
5	Д И 1	Во время смерти Святослава великим князем сдружен его сыновья

Задание 7. Перед Вами несколько картин, в основу которых положены исторические события, связанные с деятельностью русских князей. Укажите имя (прозвище) князя и дату события. Ответ оформите в виде таблицы. Максимальный балл – 10)

1



2



3



4



5



Ответ:

Номер картины	Имя князя	Дата события
1	Олег	907 911
2	Ярослав Мудрый	1019
3	Владимир Святый	988
4	Александр Невский	1242

Задание 8. Ниже приводятся отрывки из различных документов, литературных произведений, связанных каким-то одним историческим сюжетом из российской истории. Определите, какое событие объединяет каждую группу документов. Напишите год события и имена трех исторических (отечественных и зарубежных) деятелей, с которыми это событие связано. Ответ внесите в таблицу. (Максимальный балл – 10)

1. А. «Окончив молитву, ... встал и поклонился архиепископу. Архиепископ же благословил его и отпустил. Он же вышел из церкви, утер слезы и начал крепить дружину свою, говоря:

- Не в силе Бог, но в правде...»

Б. «Здесь же в полку... явилось 6 мужей храбрых, которые с ним крепко сражались. Один – Он наехал на вражеский шнек и въехал по доске до самого корабля. И побежали враги на корабль от него, а затем обернулись и сбросили его с доски с конем в воду. Божьею милостью он вышел из рек невредим и снова наехал на врагов и бился с самим воеводой среди полка их...»

2. А. «... же ответил:

– Братья и дружина! Тайн Божьих никто не ведает. Бог - творец и знаменям и всему миру сему. Мы же после увидим, что нам Бог даст – добро или зло...

Дружинники князя и вои перешли Дон...

На другой день в пятницу встретили полки половецкие. Они собрались от мала до велика и стояли на другой стороне реки Суюрлий...

– Братья, этого мы сами искали. Сразимся же с ними ...»

Б., князь галицкий! Твой град

Высоко стоит под облаками.

Оседлал вершины ты Карпат

И подпер железными полками.

На своем престоле золотом

Восемь дел ты, князь, решаешь разом,

И народ зовет тебя кругом

Осмомыслом — за великий разум.

Дверь Дуная заперев на ключ,

Королю дорогу заступая,

Бремена ты мечешь выше туч,

Суд вершишь до самого Дуная.

Власть твоя по землям потекла,

В Киевскиеходишь ты пределы,

И в салтанов с отчего стола

Ты пускаешь княжеские стрелы.

За Русскую землю,

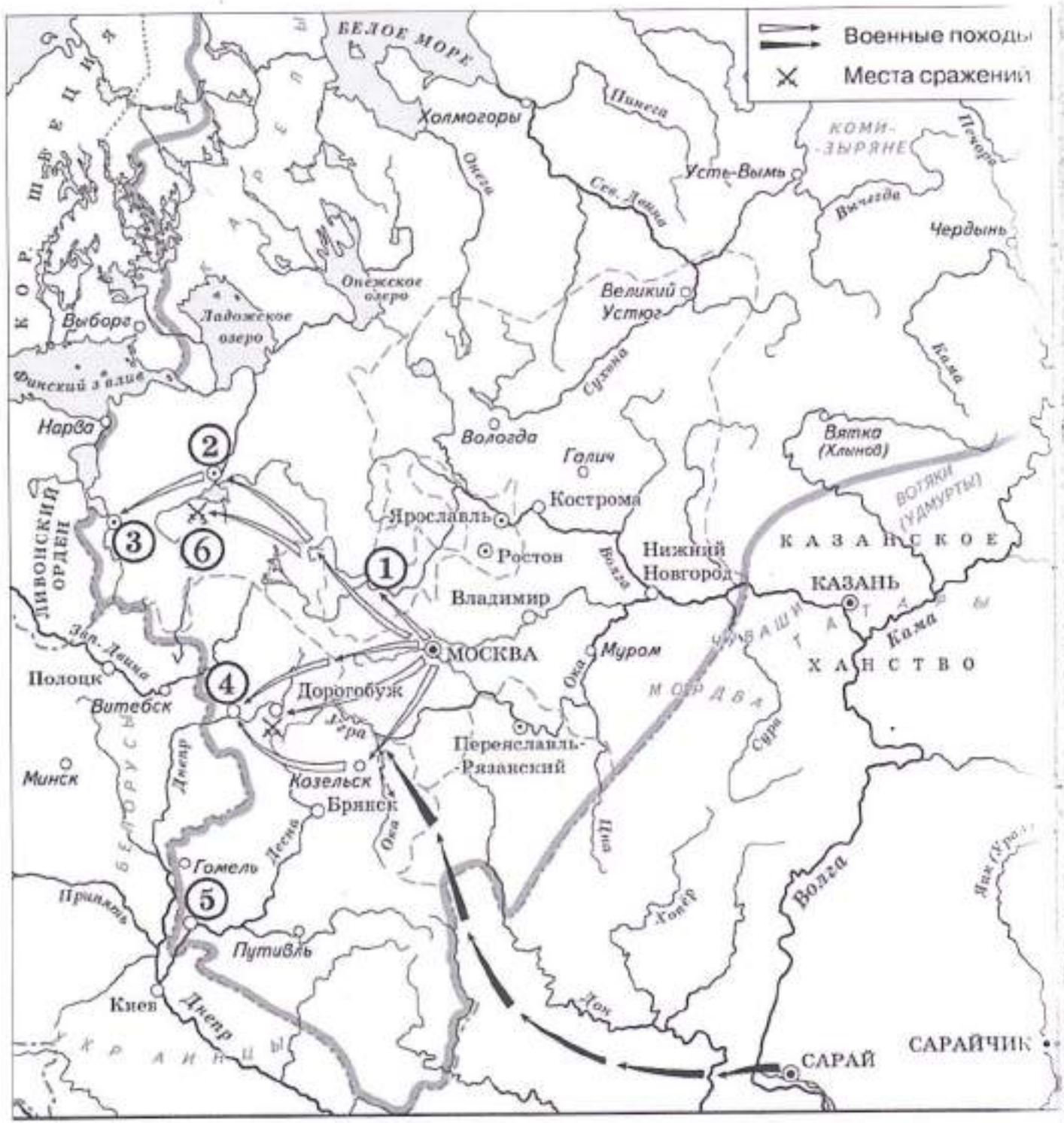
За ... раны —

Удалого сына Святославича!..

Ответ:

Группа	Событие	Год	Исторические деятели
1	Невская битва 1	1240 1	Александр Ярославич Буйер 2
2	Пожары Монол против расовцев 1	1185 1	Морь (Северский) Ошальши, Ярославича. 3

Задание 9. Внимательно рассмотрите карту и выполните задания. Ответ внесите в таблицу. (Максимальный балл – 10)



- 9.1. Назовите процесс в истории Российского государства, завершение которого нашло отражение на данной карте?
- 9.2. Укажите когда, (с точностью до четверти века) установилась граница Российского государства, обозначенная на карте.
- 9.3. Назовите московского правителя, при котором города, обозначенные цифрами 1 и 2, потеряли свою независимость.
- 9.4. Назовите предводителя похода, обозначенного на карте черными стрелками.
- 9.5. Укажите название московского монастыря, основанного московским государем в благодарность за овладение городом, обозначенным на карте цифрой 4.
- 9.6. Оцените представленные ниже суждения. Ответ внесите в таблицу.

- 1) Одним из последствий похода, обозначенного на карте черными стрелками, стал распад Золотой Орды.
- 2) Город, обозначенный на карте цифрой 2, был основным противником Москвы в борьбе за ярлык на великое княжение.
- 3) На карте обозначен город, который семь недель оказывал сопротивление монголам и был назван Батыем «Злым городом».
- 4) Город, обозначенный на карте цифрой 5, был основан после завершения второго похода Батыея на Русь.
- 5) В период событий, обозначенных на карте, города Минск и Киев находились под властью правителей из династии Гедиминовичей.

Ответ:

9.1.	Иван IV	-
9.2.	1521	+
9.3.	Иван III	+
9.4.	Иван IV АЗМАТ	+
9.5.		-

9.6.

Верно	Неверно
3, 2, 5 + - +	1, 4, + +

Задание 10. Определите пропущенные в тексте названия, слова, имена, даты, обозначенные порядковыми номерами. При необходимости при порядковых номерах даются пояснения о характере требуемой вставки. Необходимые вставки впишите рядом с соответствующими номерами в помещённую ниже таблицу. (Максимальный балл – 10)

«В 1326 году тверской князь (1 – имя) получил (2 – термин) на великое княжение (3 – название княжества). Но уже через год произошло событие, кардинально изменившее соотношение сил в борьбе за великокняжеский престол – в Твери вспыхнуло восстание.

В Тверь приехал ханский посол по имени (4), как его называют наши летописи, двоюродный брат хана. Посольство заняло княжеский дворец и, согласно летописям, ввело всяческие беззакония. 15 августа рано утром некий дьякон по прозвищу Дудко повёл лошадь к (5 – река), чтобы напоить её. Случившиеся на его пути татары, завидев «кобылицу младу и зело тучну», без лишних слов отняли лошадь. Дьякон стал вопить: «Люди тверские, не выдайте!» Между тверичами и татарами началась драка. Схватка переросла в побоище. Загудели тревожно городские колокола. Толпы народа собрались на (6 – орган самоуправления), где было решено всем городом выступить против ордынцев. Вооружившись чем попало, тверичи кинулись на врагов. Весь посольский отряд был уничтожен.

Узнав о случившемся, хан (7 – имя) послал на Тверь крупное войско. Призванный в (8 – государство), московский князь (9 – имя) шёл вместе с ним. Тверское княжество подверглось сильному разорению. Тверской князь бежал в Новгород; новгородцы его не приняли, и бывший великий князь отправился в соседний (10 – город). По вопросу о великом княжении хан принял неординарное решение: оно было поделено между двумя князьями: московским и суздальским».

Ответ:

1	Михаил Ярославич Тверской	-
2	Улык	1
3	Тверь Владимирово	1
4	Узелки	1
5	Вело	1
6	Веле	1
7	Узбек	1
8	Тверь Золотая Орда	1
9	Дмитрий Донской Иван Калита	1
10	Карва	-

Желаем успеха!

565 7 кл.

Муниципальный этап Всероссийской олимпиады школьников

21.11 2023 г.

Сведения об участнике:

Фамилия Матвеевко
Имя Светлана
Отчество Александровна
Класс обучения 7.1
Образовательная организация Муниципальное бюджетное учреждение
Топровская средняя общеобразовательная школа Муниципального Истринского округа.
Подпись участника [подпись]

ШИФР Участника: 006
*Шифр заполняет координатор ВСОШ

ВСЕРОССИЙСКАЯ ОЛИМПИАДА ШКОЛЬНИКОВ ПО ИСТОРИИ
МУНИЦИПАЛЬНЫЙ ЭТАП
Приморский край. 2023-2024 уч. г.
7 КЛАСС

Время выполнения – 90 минут
Максимальное количество баллов – 100

Задание 1. По какому принципу образованы ряды? Кто или что является лишним в ряду? Вычеркните лишнее и дайте объяснение, почему? Ответы без объяснения не оцениваются! (Максимальный балл – 10)

1.1. 882 г., 907 г., 911 г., 944 г., 971 г.

Принцип Договоры с Византией. 1

Исключение 882 г. - образование Древнерусского государства. 1

1.2. Ногата, Гривна, Векша, Куна, Куна

Принцип Деньги в Древнерусском государстве 1

Исключение Куна - дан которую брал крестьянин. 1

1.3. 972-980 гг., 1015-1019 гг., 1073-1076 гг., 1125-1132 гг.

Принцип Междоусобные войны на Руси 1

Исключение 1125-1132 гг. - правление сына Владимира Мономаха Мстислава 1

1.4. Днепр, Дон, Ильмень, Ловать, Волхов, Ладожское озеро

Принцип Торговый путь из варягов в греки 1

Исключение Дон. Т.е. река Дон не входила в этот торговый путь 1

1.5. Меря, Мещера, Весь, Мурома, Вятичи

Принцип Широко-урокские племена 1

Исключение Вятичи - славянское племя 1

10

Задание 2. Восстановите хронологический порядок исторических событий, перечисленных ниже. Ответ запишите в таблицу. (Максимальный балл – 10)

- А) «Стояние» на реке Угре
- Б) битва на реке Сити

- В) Куликовская битва
 Г) начало междоусобной войны в Московском княжестве
 Д) начало первого крестового похода
 Е) окончание Столетней войны
 Ж) подписание «Великой Хартии вольностей»
 З) строительство Софийского Собора в Киеве
 И) строительство церкви Вознесения в Коломенском
 К) Флорентийская уния

Ответ:

Последовательность	1	2	3	4	5	6	7	8	9	10
Событие (Буква)	д	и	з	ж	г	в	е	б	а	к

Задание 3. Выполните задания на соотнесение. (Максимальный балл – 10).

3.1. Найдите современников. Ответ запишите в таблицу. (Максимальный балл – 5)

А. Рюрик	1. Мартин Лютер
Б. Василий II	2. Кирилл и Мефодий
В. Иван Калита	3. Христофор Колумб
Г. Юрий Долгорукий	4. Франческо Петрарка
Д. Иван III	5. Фридрих Барбаросса

Ответ:

А	Б	В	Г	Д
3	1	2	4	5

3.2. Соотнесите названия мер сыпучих и жидких тел, мер длины и мер площади, бытовавших на Руси, с самими предметами измерения. Ответ запишите в таблицу. (Максимальный балл – 5)

А. Десятина	1. Мед
Б. Локоть	2. Соль
В. Половник	3. Участок земли
Г. Рогожа	4. Полотно
Д. Бочка	5. Зерно

Ответ:

А	Б	В	Г	Д
3	4	5	2	1

Задание 4. Верно ли утверждение? Ответ оформите в виде таблицы (Максимальный балл – 10)



1. В домонгольской Руси из камня строились только храмы?


2. Московский белокаменный Кремль впервые выдержал осаду во время похода великого князя литовского Ольгерда на Москву?
3. Иван III первым из московских князей женился на иностранке?
4. Князь, приглашенный править в Новгороде, не мог одновременно занимать другой княжеский стол?
5. Засеки стали впервые использоваться для защиты Руси от кочевников при Владимире I.
6. Александр Невский был первым русским князем, получившим ярлык на великое княжение от хана Золотой Орды?
7. В домонгольский период глава русской церкви – митрополит – назначался константинопольским патриархом?
8. Варяги называли Русь «Гардарики».
9. Первое летописное упоминание о Москве относится к 1147 году, а образование Московского княжества – к 1276 году.
10. Решение Любечского съезда князей («каждо да держит отчину свою») положило начало периоду политической раздробленности Древнерусского государства.

Ответ:


Верно	Неверно
1, 4, 5, 7, 9 - + + +	2, 3, 6, 8, 10 + - + + - +

Задание 5. Изучите изображения архитектурных памятников. В таблице ответа укажите их название и место нахождения. (Максимальный балл – 10).

<p>1</p> 	<p>2</p> 
<p>3</p>	<p>4</p>



5



Ответ:

№ п/п	Название архитектурного памятника	Место нахождения
1	Золотые ворота	Владимир 1
2	Церковь Покрова на Нерли	Ровногор. Владимир 1
3	Церковь Вознесения	Москва 1
4		
5		

Задание 6. Среди перечисленных князей – пять пар современников, которым случалось сражаться друг против друга в усобицах. Выделите эти пары, а если удастся – назовите также, при каких обстоятельствах, когда и где им приходилось сталкиваться на поле боя (Максимальный балл – 10).

- А) Василий Васильевич Темный
- Б) Дмитрий Юрьевич Шемяка
- В) Михаил Ярославич Тверской
- Г) Мстислав Мстиславич Удалой
- Д) Олег Древлянский
- Е) Святополк Окаянный
- Ж) Юрий Всеволодович

В) Юрий Данилович Московский

И) Ярополк Святославич

К) Ярослав Мудрый

Ответ:

Пара	Имя (Буква)	Обстоятельства
1 к	и.д 1	Междоусобная война между Святослава 1
2		
3		
4		
5		


2

Задание 7. Перед Вами несколько картин, в основу которых положены исторические события, связанные с деятельностью русских князей. Укажите имя (прозвище) князя и дату события. Ответ оформите в виде таблицы. Максимальный балл – 10)

1



2



3



4



5



Ответ:

Номер картины	Имя князя	Дата события
1	Олег	912. 1
2	Святослав	971. 1
3	Яромир Красно Солнышко	998 (Крещение Руси) 1
4	Александр Невский	1242. 1

Задание 8. Ниже приводятся отрывки из различных документов, литературных произведений, связанных каким-то одним историческим сюжетом из российской истории. Определите, какое событие объединяет каждую группу документов. Напишите год события и имена трех исторических (отечественных и зарубежных) деятелей, с которыми это событие связано. Ответ внесите в таблицу. (Максимальный балл – 10)

1. А. «Окончив молитву, ... встал и поклонился архиепископу. Архиепископ же благословил его и отпустил. Он же вышел из церкви, утер слезы и начал крепить дружину свою, говоря:

- Не в силе Бог, но в правде...»

Б. «Здесь же в полку... явилось 6 мужей храбрых, которые с ним крепко сражались. Один – Он наехал на вражеский шнек и въехал по доске до самого корабля. И побежали враги на корабль от него, а затем обернулись и сбросили его с доски с конем в воду. Божьею милостью он вышел из рек невредим и снова наехал на врагов и бился с самим воеводой среди полка их...»

2. А. «... же ответил:

– Братья и дружина! Тайн Божьих никто не ведает. Бог - творец и знамениям и всему миру сему. Мы же после увидим, что нам Бог даст – добро или зло...»

Дружинники князя и вои перешли Дон...

На другой день в пятницу встретили полки половецкие. Они собрались от мала до велика и стояли на другой стороне реки Суюрлий...

– Братья, этого мы сами искали. Сразимся же с ними ...»

Б. ..., князь галицкий! Твой град

Высоко стоит под облаками.

Оседлал вершины ты Карпат

И подпер железными полками.

На своем престоле золотом

Восемь дел ты, князь, решаешь разом,

И народ зовет тебя кругом

Осмомыслом — за великий разум.

Дверь Дуная заперев на ключ,

Королю дорогу заступая,

Бремена ты мечешь выше туч,

Суд вершишь до самого Дуная.

Власть твоя по землям потекла,

В Киевскиеходишь ты пределы,

И в салтанов с отчего стола

Ты пускаешь княжеские стрелы.

За Русскую землю,



9.1. Назовите процесс в истории Российского государства, завершение которого нашло отражение на данной карте?

9.2. Укажите когда, (с точностью до четверти века) установилась граница Российского государства, обозначенная на карте.

9.3. Назовите московского правителя, при котором города, обозначенные цифрами 1 и 2, потеряли свою независимость.

9.4. Назовите предводителя похода, обозначенного на карте черными стрелками.

9.5. Укажите название московского монастыря, основанного московским государем в благодарность за овладение городом, обозначенным на карте цифрой 4.

9.6. Оцените представленные ниже суждения. Ответ внесите в таблицу.

За ... раны —
Удалого сына Святославича!..

Ответ:

Группа	Событие	Год	Исторические деятели
1	Невская битва 1	1240 1	Александр ^{Ярославич} Невский, 1
2	Куликовская битва	1380	Дмитрий Донской.

3

Задание 9. Внимательно рассмотрите карту и выполните задания. Ответ внесите в таблицу. (Максимальный балл – 10)

- 1) Одним из последствий похода, обозначенного на карте черными стрелками, стал распад Золотой Орды.
- 2) Город, обозначенный на карте цифрой 2, был основным противником Москвы в борьбе за ярлык на великое княжение.
- 3) На карте обозначен город, который семь недель оказывал сопротивление монголам и был назван Батыею «Злым городом».
- 4) Город, обозначенный на карте цифрой 5, был основан после завершения второго похода Батыея на Русь.
- 5) В период событий, обозначенных на карте, города Минск и Киев находились под властью правителей из династии Гедиминовичей.

Ответ:

9.1.	<i>раздробленность</i>	
9.2.		
9.3.	<i>Иван III</i>	<i>1</i>
9.4.	<i>Ахмат</i>	<i>1</i>
9.5.		

9.6.

Верно	Неверно
<i>5, 3</i> <i>5</i> <i>+</i> <i>+</i>	<i>2, 4, 1</i> <i>+</i> <i>+</i> <i>+</i>

Задание 10. Определите пропущенные в тексте названия, слова, имена, даты, обозначенные порядковыми номерами. При необходимости при порядковых номерах даются пояснения о характере требуемой вставки. Необходимые вставки впишите рядом с соответствующими номерами в помещённую ниже таблицу. (Максимальный балл – 10)

«В 1326 году тверской князь (1 – имя) получил (2 – термин) на великое княжение (3 – название княжества). Но уже через год произошло событие, кардинально изменившее соотношение сил в борьбе за великокняжеский престол – в Твери вспыхнуло восстание.

В Тверь приехал ханский посол по имени (4), как его называют наши летописи, двоюродный брат хана. Посольство заняло княжеский дворец и, согласно летописям, ввело всяческие беззакония. 15 августа рано утром некий дьякон по прозвищу Дудко повёл лошадь к (5 – река), чтобы напоить её. Случившиеся на его пути татары, завидев «кобылицу младу и зело тучну», без лишних слов отняли лошадь. Дьякон стал вопить: «Люди тверские, не выдайте!» Между тверичами и татарами началась драка. Схватка переросла в побоище. Загудели тревожно городские колокола. Толпы народа собрались на (6 – орган самоуправления), где было решено всем городом выступить против ордынцев. Вооружившись чем попало, тверичи кинулись на врагов. Весь посольский отряд был уничтожен.

Узнав о случившемся, хан (7 – имя) послал на Тверь крупное войско. Призванный в (8 – государство), московский князь (9 – имя) шёл вместе с ним. Тверское княжество подверглось сильному разорению. Тверской князь бежал в Новгород; новгородцы его не приняли, и бывший великий князь отправился в соседний (10 – город). По вопросу о великом княжении хан принял неординарное решение: оно было поделено между двумя князьями: московским и суздальским».

Ответ:

1	
2	Ярлык 1
3	Владимирское 1
4	Шыжан 1
5	Джепр. -
6	Бесе 1
7	Удск 1
8	Золотая Орда 1
9	Иван Калита 1
10	

Желаем успеха!